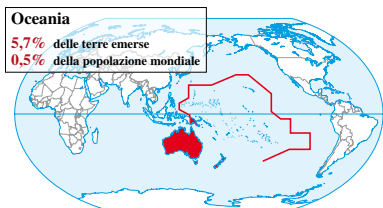


Unità

S7**L'Oceania:
gli insiemi
regionali**

Guida allo studio

- ▶ Quali regioni fanno parte del continente?
- ▶ Com'è il clima? Che cosa sono gli atolli?
- ▶ Qual è l'elemento comune al continente?
- ▶ Quali caratteristiche ha il popolamento? Qual è l'impronta culturale prevalente?



Glossario

• Melanesia

Nome derivante dal greco *mélas*, che sta per «nero»; infatti queste isole sono abitate prevalentemente da popolazioni di pelle scura.

• Micronesia

Nome derivante dal greco *micro*, che allude alla dimensione molto ridotta di queste isole.

• Polinesia

Nome che significa «tante isole».

Zoom

Nell'arcipelago delle Hawaii si registra la massima piovosità del mondo: 11 684 mm di pioggia annui.

Al largo delle isole Marianne si trova la fossa oceanica più profonda del mondo: 11 022 m.

Bikini è il nome di una delle isole Marshall dove, nel dopoguerra, gli Stati Uniti effettuarono diverse esplosioni atomiche sperimentali, è da qui che deriva il nome del costume a "due pezzi", inventato proprio in quegli anni.

Territori e stati dell'Oceania

▶ L'Oceania, il più piccolo dei continenti, si estende in gran parte nell'emisfero meridionale ed è costituita da un'isola gigante, l'**Australia**, che da sola occupa circa il 90% della superficie del continente, e da poche altre isole di grandi dimensioni: **Nuova Guinea**, **Tasmania** e le due isole della **Nuova Zelanda**. A queste si aggiungono circa **30 000 piccole isole** divise in tre raggruppamenti: **Melanesia**, **Micronesia** e **Polinesia**.

L'Australia è formata da un antico tavolato, mentre le isole della Nuova Guinea e della Nuova Zelanda derivano da corrugamenti più recenti, per cui hanno un territorio montuoso e presentano le massime elevazioni del continente. La Nuova Zelanda è un territorio giovane, come testimonia la presenza di vulcani attivi e di fenomeni vulcanici secondari. Le altre migliaia di isole e isolette sono per lo più di origine vulcanica o corallina e fanno parte di quella fascia geologicamente instabile e costellata di vulcani ("cintura di fuoco") che circonda il Pacifico.

▶ L'Oceania si trova per lo più tra i due tropici: oltre che dalla latitudine, il suo clima è fortemente condizionato anche dall'oceano e dallo spirare di monsoni e alisei che portano aria umida. Il clima risulta quindi **caldo-umido**, con precipitazioni abbondanti quasi ovunque, mentre è **arido** nel vasto interno australiano. Condizioni **equatoriali**, cioè con temperature costantemente elevate e abbondanti e precipitazioni tutto l'anno, si hanno nelle regioni settentrionali, come in Papua Nuova Guinea, dove infatti le foreste occupano circa il 90% della superficie; anche le isole minori sono spesso coperte da foreste e piantagioni tropicali. Un **clima temperato** caratterizza invece la Nuova Zelanda e le coste sudorientali dell'Australia. Caratteristiche degli ambienti marittimi del continente è la presenza degli atolli, particolari **formazioni coralline ad "anello"** cresciute attorno ai margini di vulcani sottomarini spenti. Lungo il bordo delle piatta-

forme continentali si trovano le **barriere coralline** (*reef* in inglese): ai margini orientali dell'Australia si estende quella più imponente del mondo, la Grande Barriera Corallina, lunga oltre 2000 km.

▶ L'Oceano Pacifico è l'**elemento unificante di un continente** composto da una miriade di isole disseminate in uno spazio marittimo enorme. Situate spesso a grande distanza l'una dall'altra, costituiscono appena **14 stati indipendenti**, di cui i maggiori sono Australia, Nuova Zelanda e Papua Nuova Guinea. Molte isole dell'Oceania dipendono da **stati esterni al continente**: alla Francia appartengono la Nuova Caledonia e la Polinesia Francese; agli Stati Uniti, oltre alle Hawaii, l'isola di Guam e parte delle Samoa e delle Marianne; al Regno Unito l'isola di Pitcairn e alcuni atolli; al Cile l'isola di Pasqua.

▶ L'Oceania ha uno **scarso popolamento**: in tutto il continente vivono solo 35 milioni di persone, con una densità media di 4 ab/km². **La distribuzione non è omogenea**: le aree **più popolate** sono la **regione costiera orientale e sudorientale dell'Australia** e alcune **piccole isole** che sfiorano o superano i 300 ab/km², come Nauru e Tuvalu. Risultano invece praticamente **spopolate altre isole** più lontane nell'oceano e le regioni interne e inospitali dell'Australia. Qui e in Nuova Zelanda la popolazione vive per la maggior parte in città. In Papua Nuova Guinea e nelle isole minori, invece, prevalgono gli insediamenti rurali.

In generale l'**impronta culturale** del continente è fortemente europea, in quanto i bianchi discendenti dai colonizzatori costituiscono oggi la netta maggioranza sia in Australia (95%) sia in Nuova Zelanda (70%). In Australia, prima che arrivassero gli europei, la popolazione era costituita dagli **aborigeni**, che non avevano dato vita a organizzazioni sociali complesse. Essi furono presto decimati dalle malattie portate dagli europei e dalla violenza esercitata nei loro confronti. Attualmente rappresentano un'esigua minoranza e in genere vivono nelle riserve situate nelle aree inospitali dell'interno, in condizioni di emarginazione e povertà. In Nuova Zelanda i colonizzatori inglesi trovarono invece i **maori**, popolo di guerrieri che oppose resistenza alla penetrazione inglese, tanto che nell'Ottocento diedero vita a due vere e proprie guerre contro gli invasori. I maori costituiscono oggi una minoranza del 15%, sono abbastanza integrati e il loro idioma è lingua ufficiale. In Papua Nuova Guinea e nelle isole minori sono maggioritarie le popolazioni originarie.

Oceania

superficie	8 526 462 km ²
popolazione	34 839 000 ab.
densità media	4 ab/km ²
n° stati	14
paese con più abitanti	Australia (22 075 000 ab.)
paese con meno abitanti	Nauru (10 000 ab.)
paese più grande	Australia (7 703 429 km ²)
paese più piccolo	Nauru (21,2 km ²)
monte più alto	Wilhelm (4508 m)
fiume più lungo	Murray-Darling (3490 km)

attività A

Lavora con la carta e le immagini

a. Osserva la carta e individua su di essa gli elementi geografici illustrati dalle immagini.

b. Rispondi alle domande.

1. In quale parte dell'isola di Nuova Guinea si trova lo stato di Papua Nuova Guinea? Al largo di quale costa si estende la Grande Barriera Corallina?

2. Sapresti indicare 2 arcipelaghi della Micronesia, 2 della Polinesia e 2 della Melanesia?

3. Dove si trova il monte Wilhem, la cima più elevata del continente?

4. Dove scorre il Murray-Darling, il fiume più lungo?

5. Quali oceani bagnano l'Australia?

6. Quali territori attraversa il Tropic del Capricorno? Quali il Tropic del Cancro?

7. A quale stato appartiene l'isola di Tasmania?

8. Qual è il monte più alto della Nuova Zelanda?

9. Sapresti indicare almeno 2 deserti australiani?

10. Come si chiamano le 2 maggiori isole che compongono la Nuova Zelanda?



Isolotto nell'atollo di Bora Bora, nella Polinesia Francese.



La foresta equatoriale in Papua Nuova Guinea.



L'interno dell'Australia, nei pressi di Alice Springs.



Il profilo del monte Cook, in Nuova Zelanda.

L'Australia

Guida allo studio

- Quali sono le caratteristiche del territorio australiano?
- Che cosa s'intende con "Australia utile" e Outback? Quali sono le principali città del paese?
- Qual è l'ordinamento dello stato? Come è avvenuto il popolamento del paese?
- L'Australia è un paese ricco? Quali sono le attività economiche più importanti?

Glossario

• scudo

Vasta area costituita da rocce antichissime risalenti all'Archeozoico; presenta superfici piatte e livellate per effetto dell'azione degli agenti esogeni.

Australia



superficie	7 703 429 km ²
popolazione	22 075 000 abitanti
densità	3 ab/km ²
natalità	12,8‰
mortalità	6,4‰
popolazione urbana	90%
speranza di vita	maschi/femmine 79/83 anni
lingua	inglese
religione	protestante (in maggior parte anglicana), cattolica
moneta	dollaro australiano
ordinamento dello stato	stato federale indipendente nell'ambito del Commonwealth
capitale	Canberra
ISU e posizione mondiale	0,970-2°

► Sesto paese al mondo per estensione, l'Australia può essere considerata per le sue dimensioni l'isola più grande o addirittura il più piccolo tra i continenti. Il territorio, formato appunto da una parte continentale o isola principale, dalla Tasmania e da altre isole minori, è interamente situato nell'emisfero Sud a cavallo del Tropic del Capricorno.

Tre sono le regioni naturali in cui si divide il paese. Al centro e a ovest si estende un antichissimo tavolato, lo **Scudo Australiano**, che occupa oltre la metà del paese ed è alto in media non più di 350 m. A est, a ridosso della costa, si allunga la **regione montuosa orientale**, che raggiunge i 2228 m con il monte Kosciusko nelle Alpi Australiane. Nel Centro-Est, tra la regione montuosa e lo scudo, si trova l'ampio **Bassopiano Centrale**, formato da pianure e depressioni, cioè da territori situati sotto il livello del mare. Quest'area coincide grosso modo con il **Gran Bacino Artesiano**, caratterizzato dalla presenza nel sottosuolo di abbondanti riserve idriche di acqua salmastra. L'ambiente australiano è però in gran parte arido. I **fiumi**, con l'eccezione del Murray e del suo principale affluente Darling, hanno carattere torrentizio e rimangono in secca per lunghi periodi. Le alte temperature e le scarse precipitazioni contribuiscono all'**aridità** del paese, soprattutto nella parte interna, in cui prevalgono **deserti**, **steppe** e **vegetazione spinosa**. Lungo le coste le precipitazioni sono più abbondanti e nella fascia orientale e sud-orientale ci sono vaste foreste di **eucalipti**.

► Proprio la fascia costiera costituisce la cosiddetta «**Australia utile**», dove, grazie al clima più favorevole, si concentrano le coltivazioni, la popolazione e le città principali. All'interno si estende invece l'**Outback**, immensa regione desertica e spopolata, caratterizzata da un clima molto caldo e da paesaggi sconfinati di terre e rocce rosse. Con poco più di 22 milioni di abitanti (1/3 circa degli italiani) su un territorio grande 25 volte l'Italia, la **densità** media è molto bassa. La popolazione si concentra nelle città (il tasso di urbanizzazione è pari al 90%) che sorgono appunto nell'«Australia utile»: nella costa sud orientale si trovano **Sydney**, la città australiana più popolosa (oltre 4 milioni di abitanti) ed economicamente importante, **Melbourne** (3,6 milioni) e la capitale Canberra (400 000 abitanti). Altre importanti metropoli sono Brisbane, Adelaide e Perth, unico grande centro della costa occidentale.

► L'Australia è indipendente dal 1901, ma è rimasta legata al **Commonwealth**, l'associazione che unisce il Regno Unito e le sue ex colonie). Ancora oggi quindi il capo dello stato è formalmente il sovrano britannico. Il paese ha una **struttura federa-**

le ed è formato da sei stati e tre territori; uno di questi è il territorio che ospita la capitale Canberra. All'inizio del dominio britannico, l'Australia era una **colonia penale**: nel 1788 la Gran Bretagna mandò nei pressi di Sydney alcune centinaia di detenuti insieme alle guardie e ai funzionari necessari per quel tipo di insediamento. Dopo lo sterminio degli **aborigeni** (la popolazione originaria) il territorio australiano si sviluppò come una tipica **colonia di popolamento**, dove i coloni giunti dall'Europa avevano a disposizione ampi spazi e risorse abbondanti. Essi provenivano soprattutto dalle isole britanniche e conferirono all'Australia un'impronta anglosassone. Nel secondo dopoguerra e fino agli anni Settanta del secolo scorso, ci fu anche una massiccia immigrazione da Italia, Grecia e Spagna. Negli ultimi tre decenni l'immigrazione europea è quasi cessata, mentre il paese è diventato meta di immigrati asiatici come vietnamiti, cambogiani e cinesi. Oggi il 20% della popolazione è costituito da stranieri e poco più del 2% da aborigeni.

► L'Australia è un paese economicamente avanzato, con un **alto reddito pro capite** e un indice di sviluppo umano elevato, il secondo al mondo dopo la Norvegia. Nonostante la scarsità della superficie effettivamente coltivabile, i grandi spazi hanno consentito lo sviluppo di un'**agricoltura moderna** e oggi il paese è uno dei più importanti esportatori mondiali di prodotti agricoli, in particolare frumento e piante industriali come canna da zucchero, cotone e tabacco. Diffusa è anche la coltivazione della vite, che ha dato luogo a una crescente produzione di vini. L'**allevamento** rappresenta tuttora una risorsa importante e viene condotto in modo estensivo (oltre la metà del territorio è adibito a pascolo). Si allevano bovini ma soprattutto ovini: l'Australia è la **prima produttrice** mondiale di **lana** e figura al secondo posto per numero di ovini. Inoltre dispone di un **sottosuolo ricchissimo** di risorse minerarie e occupa il primo posto nella produzione di bauxite, piombo e zinco, oltre a fornire grandi quantità di uranio, diamanti, oro e argento, ferro, rame, nichel e carbone. Anche l'estrazione di idrocarburi (petrolio, carbone) è notevole e soddisfa quasi completamente il fabbisogno interno. Oggi il paese si distingue per il **livello avanzato** della sua **industria** (metallurgica, meccanica, chimica, tessile) e del **settore terziario**, che occupa circa i 3/4 della popolazione attiva. È inoltre un grosso esportatore di prodotti agricoli e minerari, ma anche di macchinari, veicoli, apparecchiature elettriche ed elettroniche. Negli ultimi decenni l'importanza dell'Australia è aumentata grazie al ruolo sempre più dinamico assunto dal Pacifico e dalle nuove economie emergenti di questa regione.

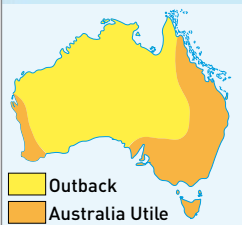
attività A

Lavora con la carta e le immagini

a. Rileggi il testo e individua sulla carta il luogo in cui si trovano le località delle immagini dell'attività B.

b. Osserva la carta e rispondi alle domande.

1. Quali sono i due oceani che bagnano l'Australia? Quali coste bagnano rispettivamente?
2. Come si chiama l'isola che si trova di fronte alla costa sud-orientale e che appartiene all'Australia?
3. Qual è la città capitale dell'Australia Occidentale? E di quella Meridionale?
4. E quella del Territorio del Nord?
5. E del Queensland?
6. Di quale stato è capitale Melbourne?
7. E Sydney?
8. Vicino a quale città sfocia il fiume Murray?
9. Dove si trovano i deserti australiani? Indicane almeno due.
10. Dove si trova la Grande Barriera Corallina? Di fronte a quale penisola sorge?



attività B

Lavora con le immagini

Collega le immagini alle frasi corrispondenti. Quindi, indica dove si trovano nella carta le località delle foto; stabilisci poi se rappresentano il territorio dell'«Australia utile» (A) o quello dell'«Outback» (O).

1. Piantagioni nei pressi del fiume Murray.
2. L'Opera House di Sydney, riconoscibile per la sua copertura che ricorda delle vele, è stata inaugurata nel 1973.
3. Vegetazione cespugliosa (scrub) nella Nullarbor Plain.
4. L'Ayers Rock, un monolito (ossia un unico blocco di pietra) di arenaria rossastra alto 340 m, è situato al centro del paese; gli aborigeni lo considerano un simbolo divino.



Gli altri stati

Guida allo studio

- Quali sono le maggiori caratteristiche della Nuova Zelanda?
- E di Papua Nuova Guinea?
- Quali sono le principali risorse economiche degli stati minori?

Glossario

antipodi

• Luoghi situati in punti diametralmente opposti rispetto al centro della Terra, con condizioni climatiche simili ma con le stagioni invertite.

► Dopo l'Australia, gli altri due stati dell'Oceania di una certa estensione e importanza sono la Nuova Zelanda e la Papua Nuova Guinea. La Nuova Zelanda si estende nella zona temperata dell'emisfero Sud, agli antipodi rispetto all'Europa. È montuosa e composta da **due isole** principali: l'Isola del Nord, ricca di **vulcani attivi** e fenomeni vulcanici secondari (geyser, fumarole e sorgenti termali), e l'Isola del Sud, che presenta **montagne** di tipo **alpino** (monte Cook, 3754 m) con estesi ghiacciai. Il clima è oceanico, con precipitazioni abbondanti e un paesaggio verdeggiantissimo; metà della superficie è destinata a **prati e pascoli** e circa il 30% del territorio è coperto da **foreste**. I neozelandesi sono poco più di 4 milioni, vivono soprattutto in città e sono prevalentemente insediati nell'Isola del Nord, dove sorgono anche le due maggiori città del paese: **Wellington**, la capitale, e **Auckland**. Domina l'impronta europea e i discendenti dei colonizzatori rappresentano il 70% della popolazione.

A questi si affiancano i **maori**, gli abitanti originari, e anche polinesiani, cinesi e indiani, comunità formatesi in seguito a migrazioni recenti. La Nuova Zelanda ha un'**economia sviluppata**, come testimoniano l'elevato reddito pro capite e il peso notevole del settore terziario, che assorbe oltre i 2/3 della popolazione attiva. Efficiente è anche il settore primario, basato su legname, pesca, **agricoltura** e soprattutto











allevamento ovino (3° produttore mondiale di lana): importante è quindi l'industria di trasformazione di questi prodotti. Se quelle minerarie sono scarse, abbondanti sono invece le **risorse idriche**, che contribuiscono in misura notevole alla produzione di energia elettrica.



► La **Papua Nuova Guinea** occupa la metà orientale dell'isola di Nuova Guinea (la metà occidentale appartiene all'Indonesia) e presenta un territorio montuoso (monte Wilhelm, 4508 m). Il clima tropicale favorisce la presenza di una fitta **foresta pluviale** che copre oltre l'80% del territorio. La popolazione, pari a oltre 6 milioni di abitanti, è in gran parte costituita da **indigeni papua** ed è in rapida crescita. È stanziata prevalentemente in villaggi rurali dell'interno. Sulle coste e in particolare nella capitale **Port Moresby** si concentrano le attività moderne (piantagioni, estrazioni minerarie), ma il paese rimane povero ed economicamente arretrato.

► Gli altri stati indipendenti, disseminati nell'Oceano Pacifico su spazi vastissimi, sono compresi nelle tre grandi aree insulari della Micronesia, della Melanesia e della Polinesia.

La **Micronesia** ne include 5, le Isole Marshall, Kiribati, Nauru, Palau e gli Stati Federati di Micronesia; della **Melanesia** fanno parte la già citata Papua Nuova Guinea, le isole Salomone, Figi e Vanuatu; nella **Polinesia** rientrano infine Tuvalu, Tonga e Samoa.

Tutti questi stati, in cui complessivamente vivono poco più di 2 milioni di abitanti su una superficie di circa 64 000 km² (pari cioè a 1/5 di quella italiana), si reggono sulle attività primarie della pesca e dell'agricoltura. In crescita il turismo e le attività finanziarie, queste ultime legate al ruolo di «paradiso fiscale» svolto da paesi come, tra gli altri, Nauru e le isole Marshall.

stato	superf. (km ²)	popolaz. (ab.)	capitale
 Figi	18 272	849 000	Suva
 Kiribati	811	98 000	Bairiki
 Marshall	181	62 000	Dalap-Uliga-Darrit
 Stati Federati di Micronesia	702	111 000	Palikir
 Nauru	21	10 000	Yaren
 Palau	488	20 000	Koror
 Salomone	28 370	523 000	Honiara
 Samoa	2831	179 000	Apia
 Tonga	748	104 000	Nuku'alofa
 Tuvalu	26	11 000	Vaiaku
 Vanuatu	12 190	240 000	Port Vila

	 Nuova Zelanda	 Papua Nuova Guinea
superficie	270 534 km ²	462 840 km ²
popolazione	4 316 000 abitanti	6 057 000 abitanti
densità	16 ab/km ²	13 ab/km ²
popolazione urbana	86%	18%
lingua	inglese e maori	inglese
religione	protestante, anglicana	protestante, cattolica
ordinamento dello stato	stato indipendente nell'ambito del Commonwealth	stato indipendente nell'ambito del Commonwealth
capitale	Wellington	Port Moresby
ISU e posizione mondiale	0,950 - 20°	0,541 - 148°



Paul Gauguin (1848-1903) visse per diversi anni a Tahiti. L'ambiente e la cultura polinesiana hanno ispirato molti dei suoi quadri.

Primo piano

Una fauna e una flora unici al mondo

L'Oceania, essendosi evoluta in una situazione di radicale isolamento rispetto agli altri continenti, ha visto svilupparsi forme di vita uniche al mondo. È originaria dell'Australia, per esempio, la pianta dell'eucalipto, di cui esistono diverse centinaia di specie. Le foglie di eucalipto costituiscono l'unico cibo del koala che, come il canguro, il diavolo di Tasmania e altri, appartiene al genere dei marsupiali, quasi del tutto assenti nelle altre parti del mondo. Altri animali molto particolari presenti in questo continente sono l'ornitorinco, mammifero con il becco d'anatra e le zampe palmate, il kiwi, uccello incapace di volare tipico della Nuova Zelanda.



Rispondi alle domande

1. Perché in Oceania si sono sviluppate forme di vita uniche al mondo?
2. Quali sono le specie uniche di questo continente?

Primo piano

Rapa Nui

L'isola di Pasqua venne chiamata così dai colonizzatori europei perché scoperta nel giorno di Pasqua del 1722, ma dagli abitanti originari era denominata Rapa Nui. Di origine vulcanica, è situata in mezzo al Pacifico e appartiene al Cile. La sua particolarità consiste nella presenza sul piccolo territorio di alcune centinaia di statue scolpite nella roccia, alte da 3 fino a 10 metri e chiamate moai. Hanno sembianze umane e sono collocate su piattaforme di pietra, in modo da voltare le spalle al mare. Secondo gli studiosi potrebbero essere state rappresentazioni di antenati.



Rispondi alle domande

1. Perché l'isola si chiama isola di Pasqua? A chi appartiene politicamente?
2. Qual è il suo mistero?

Primo piano

Gli aborigeni

Arrivati dall'Indocina più di 50 000 anni fa, al tempo del loro primo contatto (fine Settecento) con i colonizzatori europei i nativi australiani (o aborigeni) erano popoli nomadi di cacciatori-raccoglitori. Non conoscevano l'uso dei metalli e per cacciare ricorrevano al *boomerang*, un bastone ricurvo che torna indietro se non colpisce il bersaglio. Possedevano una ricca cultura orale e valori spirituali basati sulla venerazione della terra e di mitiche divinità risalenti al Tempo del Sogno, quando essa era piatta e vuota, senza luce né tenebre e la natura attendeva la venuta degli eroi divini perché le dessero forma e vita. Decimata durante la colonizzazione, la popolazione aborigena è cresciuta negli ultimi decenni, ma anche oggi gli oltre 400 000 aborigeni continuano a essere emarginati e a vivere in gran parte nelle riserve. La loro speranza di vita è di 20 anni inferiore a quella dei bianchi.

Rispondi alle domande

1. Da dove arrivarono gli aborigeni? Qual era la loro cultura?
2. Cos'è il boomerang?



Verifiche di conoscenze e competenze

CHE COSA HO STUDIATO

1 ■■■ Acquisire le conoscenze di base

Rispondi alle domande all'inizio di ogni lezione per fissare i concetti principali dell'unità.

2 ■■■ Acquisire il lessico specifico

Rileggi il testo dell'unità e scrivi il significato dei seguenti termini.

Aborigeni

Maori

Barriera corallina

Atollo

Melanesia

Micronesia

Polinesia

Antipodi

Australia utile

Outback

Scudo

3 ■■■ Comprendere le relazioni logiche, tra cui quelle di causa-effetto

a. Segnala con una crocetta la risposta corretta.

1. Il territorio australiano è caratterizzato da:

- a superfici in gran parte montuose che superano i 3000 m.
- b un antico tavolato spianato dall'erosione che ne occupa la parte occidentale e centrale.
- c una prevalenza di ambienti umidi e piovosi.
- d la presenza di molti fiumi ricchi di acque.

b. Distingui con una crocetta i completamenti corretti (C) da quelli sbagliati (S):

In Australia:

- a i deserti sono presenti soprattutto nella parte settentrionale. **C S**
- b il clima è ovunque caldo-umido. **C S**
- c l'allevamento ovino è un settore economicamente molto importante (l'Australia è il primo paese produttore di lana al mondo). **C S**
- d il sottosuolo è povero di risorse minerarie. **C S**

e la popolazione si concentra lungo le coste. **C S**

f la densità di popolazione media è elevata. **C S**

g Canberra, la capitale, è anche la città più popolosa. **C S**

h gli aborigeni sono bene inseriti nella società, in cui rivestono ruoli importanti. **C S**

i la popolazione è per la maggior

parte di origine europea. **C S**

j il capo dello stato è il sovrano del Regno Unito. **C S**

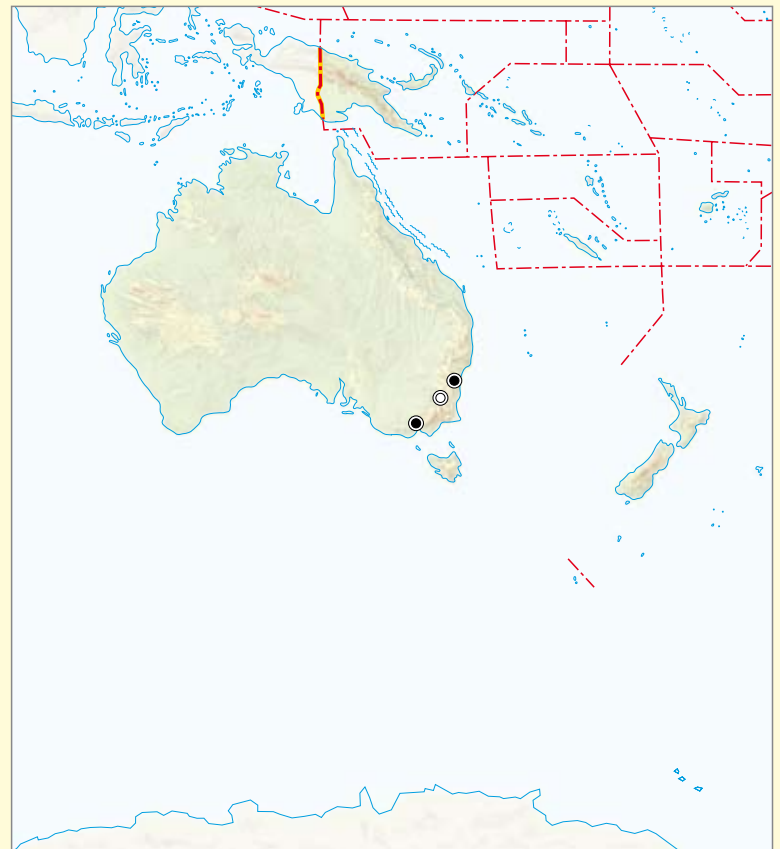
c. Elenca 3 caratteristiche che caratterizzano:

- a il territorio dell'Australia.
- b la popolazione australiana.
- c la cultura e la società australiana.
- d l'economia australiana.

4 ■■■ Conoscenza degli strumenti cartografici (saper localizzare)

Scrivi sulla carta i seguenti nomi geografici:

Nuova Zelanda, Papua Nuova Guinea, Australia, Grande Barriera Corallina, Sydney, Melbourne, Canberra, Tasmania, Oceano Pacifico, Oceano Indiano



5 ■■■ Commenta una carta tematica

Osserva la carta e scrivi una didascalia a commento.

densità media (ab./km²)

- oltre 40
- da 20 a 40
- da 10 a 20
- da 2 a 10
- meno di 2

città

- oltre 1 000 000
- da 250 000 a 500 000
- oltre 100 000



Attraverso l'Australia

Leggi il testo e rispondi alle domande.

Costruisci poi un itinerario di viaggio in Australia più tradizionale, scegliendo le località turistiche del paese. Corredalo di una carta tematica e di foto dei luoghi da visitare.

1. Qual è l'idea strampalata che sta alla base del viaggio del protagonista?
2. Da chi furono importati i dromedari in Australia? Per quale motivo?
3. Come cambia il paesaggio nel viaggio in treno tra Adelaide e Alice Springs?



Una donna, un cane e quattro dromedari in Australia

Adattato da: Robyn Davidson, *Orme. Una donna e quattro cammelli nel deserto australiano*, Feltrinelli 2002.

Arrivai ad Alice¹ alle cinque del mattino con un cane, sei dollari e una valigetta piena di vestiti per niente adatti all'impresa. «Non dimenticate di portare un golf per la sera» avevo letto sul dépliant. In realtà, un vento gelido e sferzante² correva lungo il binario, coprendolo di sabbia, mentre io, tremante di freddo, mi stringevo al corpicino caldo del cane che tenevo fra le braccia e cercavo disperatamente di capire per quale idiozia fossi finita in quella stazione vuota e lugubre³, al centro del nulla. Diggity si divincolò e saltò a terra, guardandomi con il muso ritto e le piccole orecchie da porcellino al vento, e io ebbi quella sensazione di sgomento che si prova quando si sa benissimo di essersi cacciati in un'impresa difficile, dalla quale non si può più tornare indietro. Finché si tratta di prendere un treno

senza una lira in tasca, congratulandoti con te stessa per il coraggio e il senso dell'avventura, e giurando di prendere le cose come vengono, va tutto bene. Quando però arrivi a destinazione, e scopri che non solo non c'è nessuno ad aspettarti, ma che non sai dove andare, e che l'unico motivo valido per non tornare indietro è un'idea strampalata⁴ e bizzarra in cui anche tu cominci a non credere più tanto, ecco che allora ti viene da pensare con rimpianto alla tua casa sulla dolce costa del Queensland. L'idea strampalata di cui ho parlato era più o meno questa: procurarmi dal bush⁵ un numero sufficiente di cammelli⁶ selvatici, insegnar loro a trasportare la mia roba, e poi partire e avventurarmi nella zona dei deserti centrali. Sapevo che nel nostro paese i cammelli selvatici esistevano fin dal 1850, quando erano stati importati dall'Afghanistan o dall'India del Nord insieme ai loro padroni, con il compito di penetrare in zone inaccessibili, trasportare cibo, e rendersi genericamente

utili nella costruzione dell'impianto telegrafico e della rete ferroviaria, e cioè proprio di quei mezzi di comunicazione che ne avrebbero inevitabilmente causato la disoccupazione. Quando ciò accadde, questi afgani, con il cuore a pezzi dal dispiacere, lasciarono liberi i cammelli e si dettero da fare a cercarsi un altro lavoro. Ma non fu semplice. Al confronto, i cammelli ebbero una vita più facile: il paese sembrava fatto apposta per loro, e nel corso degli anni si moltiplicarono al punto che oggi ce ne sono diecimila che vagano liberamente in tutto il paese, decimando il bestiame, finendo spesso uccisi o addirittura recando danni ad alcune specie di piante di cui sembrano essere particolarmente ghiotti. Il loro nemico naturale è l'uomo: per il resto, non contraggono alcuna malattia, e quelli australiani in particolare sono considerati oggi fra i migliori al mondo. Durante il tragitto il treno era stato sempre mezzo vuoto, e il viaggio lungo: cinquecento miglia, e

cioè due giorni interi, da Adelaide ad Alice Springs. Le moderne arterie costruite intorno a Port Augusta si erano trasformate quasi immediatamente in strade roscicce, sconnesse⁷ e disastrose, che puntavano tutte verso un orizzonte accecante, e ben presto non c'era stato nient'altro se non il rosso arido e infuocato. In piedi nel silenzio vuoto di quell'alba rimasi ad aspettare che la stazione si svuotasse dei pochi e rumorosi viaggiatori. Poi, ricacciando indietro un senso crescente di inquietudine, mi diressi verso la città, seguita da Diggity.

1. **Alice**: forma abbreviata di Alice Springs, città dell'interno dell'Australia da cui ha inizio il viaggio.
2. **sferzante**: violento.
3. **lugubre**: funebre.
4. **strampalata**: stravagante.
5. **bush**: qualsiasi zona non coltivata dell'Australia, sia essa foresta, bosco o deserto.
6. **cammelli**: in verità si tratta di dromedari, ma il traduttore ha preferito informarsi al termine inglese camel.
7. **sconnesse**: mal collegate.