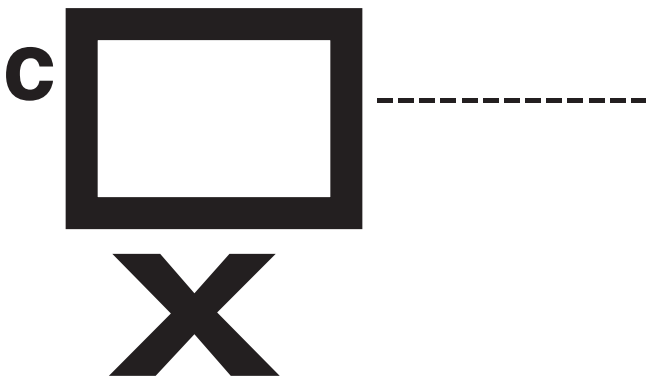





POSIZIONAMENTO

1) Usa le parole: *sopra*, *sotto*, *vicino a*, *in fronte a*, per descrivere la posizione della croce.



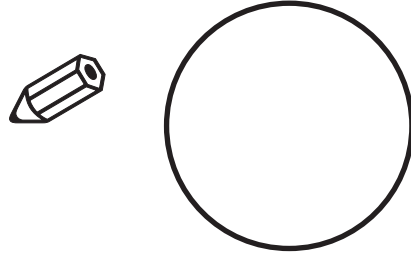
2) Disegna: 

- un uccello *sopra* all'albero
- una mela *sull'*albero
- una scatola *vicino* all'albero
- un lombrico *sotto* l'albero



POSIZIONAMENTO

1) Disegna una croce alla *sinistra* del cerchio



2) Disegna un omino e una palla



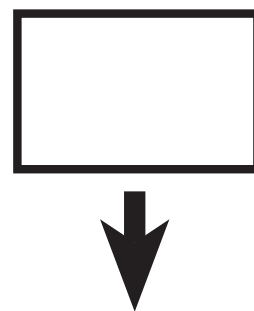

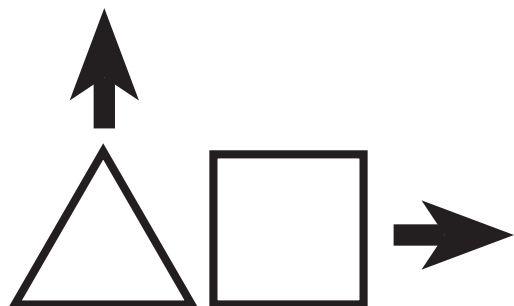
- *Descrivi* la posizione della palla *rispetto all'omino*

- *Descrivi* la posizione della palla *rispetto a te* che

stai guardando il foglio


POSIZIONAMENTO

1) *Disegna* ciascuna forma nella direzione indicata dalla freccia 




2) In figura è disegnata una griglia; devi disegnare 

- un cerchio *sotto* al quadrato
- un triangolo *a destra* del quadrato
- una stella *a sinistra* del quadrato
- una freccia *sopra* al quadrato



POSIZIONAMENTO

1) In figura sono i vassoi per il pranzo di alcuni allievi



- a) Di chi è il vassoio che sta *sopra* a quello di Roberto?.....
- b) Di chi è il vassoio che sta *sotto* a quello di Kim?
- c) Di chi è il vassoio che è alla *sinistra* di quello di Susy?.....
- d) Di chi è il vassoio che è al *centro* di tutto?

2)
Osserva la griglia. Questa griglia può rappresentare in maniera molto sintetica l'insieme di tutti i vassoi per il pranzo dell'esercizio precedente?

Se **SI**, il quadratino nero di quale allievo rappresenta il vassoio?

	■	

.....

POSIZIONAMENTO






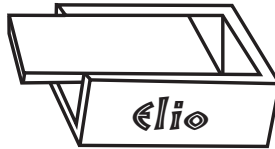



Abbiamo ancora i vassoi degli allievi inseriti in una griglia. Se individuo la posizione del vassoio di Ada con la coppia di simboli (A, 3), quali saranno le coppie che individuano i vassoi di:

Roberto (..., ...) Susy (..., ...)

Lily (..., ...) Davide (..., ...)

Luigi (..., ...) Kate (..., ...)

Elio (..., ...)















3			
2			
1			
	A	B	C

Ricorda! Le coppie che hai individuato per ogni casella, si chiamano *coordinate*

POSIZIONAMENTO

1) Scrivi le *coordinate* di:

- Gatto.....
- Pesce.....
- Leone.....
- Pecora.....
- Orso.....
- Ape.....

5				
4				
3				
2				
1				
	A	B	C	D

2) Nella griglia dell'esercizio precedente, quali animali si trovano:

- (A, 5).....
- (D, 5).....
- (D, 4).....
- (D, 2).....
- (C, 1).....
- (D, 3).....