


# L'ORDINE CRONOLOGICO

Guarda con attenzione le immagini e indica cosa succede in ordine di tempo (ordine cronologico) utilizzando i numeri da 1 a 6


<input type="checkbox"/> 	<input type="checkbox"/> 
<input type="checkbox"/> 	<input type="checkbox"/> 
<input type="checkbox"/> 	<input type="checkbox"/> 

# L'ORDINE CRONOLOGICO


Utilizza i numeri da 1 a 9 per mettere in ordine cronologico questi avvenimenti, cominciando da quelli più lontani nel tempo.



**NASCO IO**



**NASCE LA MAMMA**



**NASCE PAPÀ CHE HA TRE ANNI PIÙ DELLA MAMMA**



**IMPARO A CAMMINARE**



**COMINCIO LA PRIMA ELEMENTARE**



**MIO FRATELLO COMINCIA LA SCUOLA ELEMENTARE**



**NASCE IL NONNO MATERNO**



**NASCE MIO FRATELLO CHE HA DUE ANNI MENO DI ME**



**COMINCIO LA SCUOLA MATERNA**

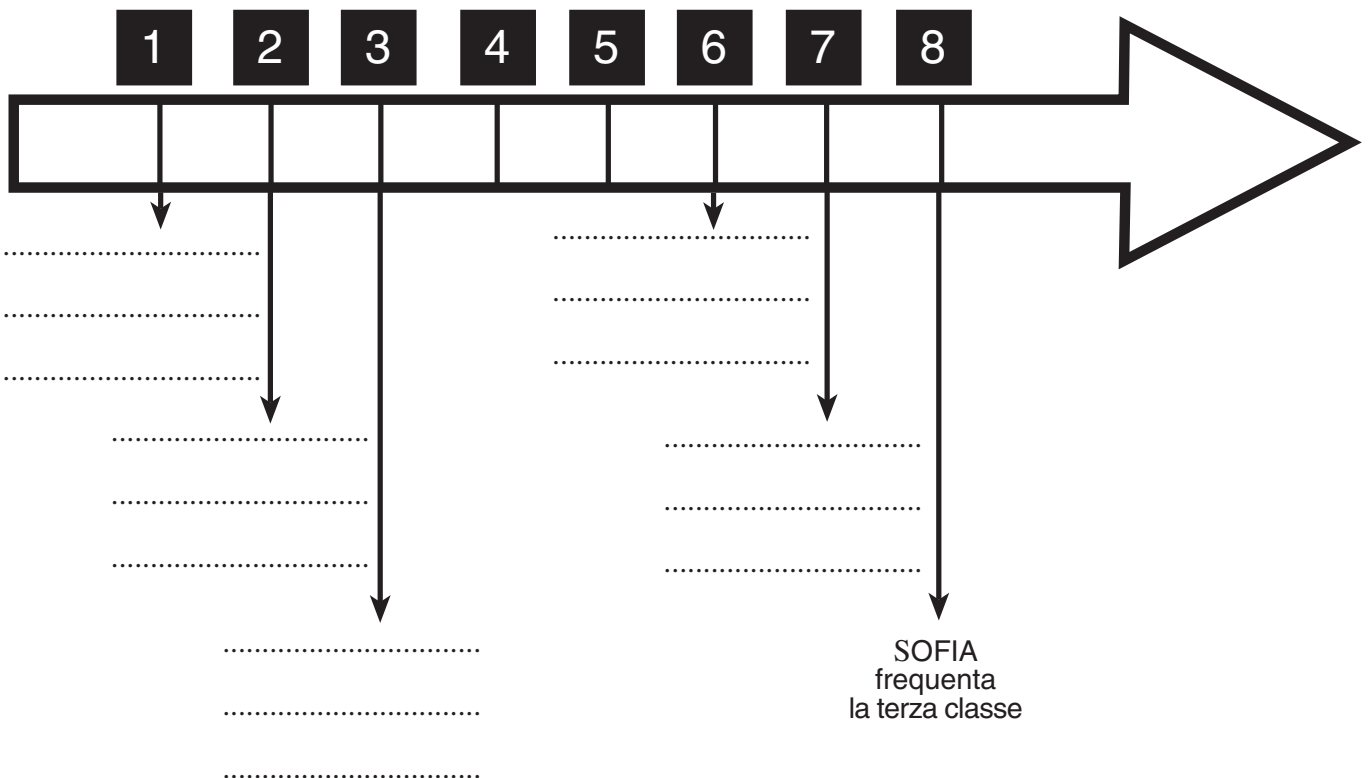
# L'ORDINE CRONOLOGICO

## LA LINEA DEL TEMPO (1)

Leggi l'intervista a Sofia, una bambina di otto anni e scrivi negli spazi giusti della LINEA DEL TEMPO disegnata sotto quale avvenimento corrisponde ad ogni suo anno di età.



Ciao, mi chiamo Sofia. Ho otto anni e frequento la classe terza della scuola primaria. A un anno ho imparato a camminare. Quando avevo due anni è nato mio fratello Niccolò. All'età di tre anni ho iniziato a frequentare la scuola materna dove ho conosciuto tanti nuovi amici. A sei anni sono andata alla scuola elementare che frequento ancora adesso. Da un anno seguo un corso di pattinaggio che mi piace molto.



# L'ORDINE CRONOLOGICO

## LA LINEA DEL TEMPO (2)



SOFIA è nata nel 2013.

Completa la sua linea del tempo inserendo con ordine gli anni a partire dalla sua nascita.

nasce SOFIA	SOFIA compie 1 anno	SOFIA compie 2 anni	SOFIA compie 3 anni	SOFIA compie 4 anni	SOFIA compie 5 anni	SOFIA compie 6 anni	SOFIA compie 7 anni	SOFIA compie 8 anni
PRIMA INFANZIA			SCUOLA MATERNA			SCUOLA PRIMARIA		

### Completa le frasi:

Sofia ha terminato la scuola materna nell'anno.....

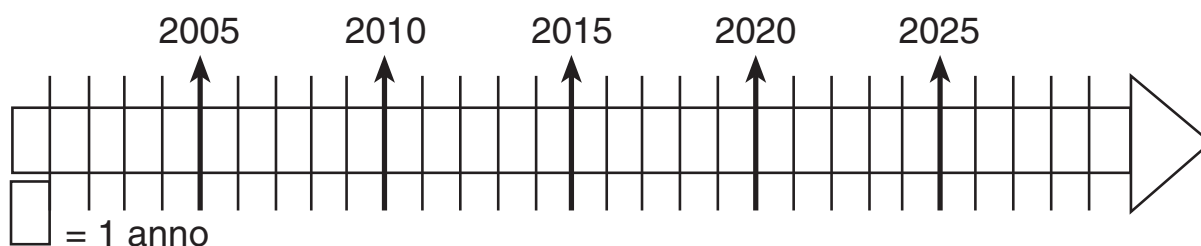
Sofia ha frequentato il secondo anno della scuola primaria nel.....

Sofia frequenterà il quinto anno della scuola primaria nell'anno.....

# L'ORDINE CRONOLOGICO

## LA LINEA DEL TEMPO (3)

La linea del tempo permette di vedere l'ordine cronologico di più avvenimenti:



Paolo è nato nel 2012, colora in rosso la barretta che corrisponde al suo anno di nascita.

Luca è nato tre anni dopo, colora in blu la barretta che corrisponde al suo anno di nascita.

Chi è più giovane dei due?.....

Colora in verde la barretta corrispondente al tuo anno di nascita

## LA LINEA DEL TEMPO (4)

La linea del tempo può rappresentare anche tempi molto lunghi.

