

SEGNALI DI VARIO TIPO

Osserva con attenzione i segnali seguenti e scrivi che cosa indicano. 

A



.....

.....

B



.....

.....


C



.....

.....

D



.....

.....

SEGNALI DI VARIO TIPO



E



.....

.....


F



.....

.....

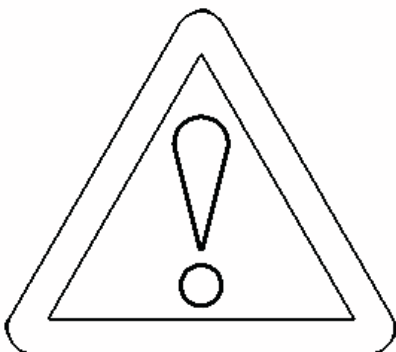
G



.....

.....

H



.....

.....

SEGNALI DI VARIO TIPO



I



.....

.....


L



.....

.....

M



.....

.....

N




.....

.....

SEGNALI DI VARIO TIPO




O



.....

.....

P



.....

.....

Q



.....

.....

R



.....

.....

SEGNALI DI VARIO TIPO



S



.....

.....

T



.....

.....

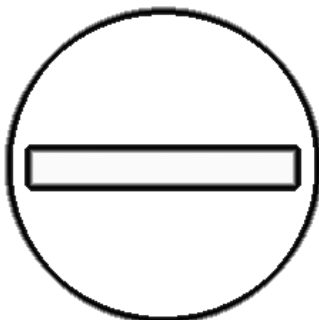
U



.....

.....

V



.....

.....

SEGNALI DI VARIO TIPO

Cerca ora di rispondere alle domande:

1. Quanti e quali sono i segnali racchiusi da un triangolo?



.....
2. Quanti e quali sono i segnali racchiusi da un cerchio?

.....
3. Quanti e quali sono i segnali non riconducibili a un cerchio o a un triangolo?

.....
4. A quali figure geometriche si possono riferire questi ultimi segnali (diversi da triangolo e cerchio)?

.....
5. A tuo parere, quale “messaggio” vogliono inviare i segnali triangolari?

a) Divieto

b) Pericolo

c) Indicazione

d) Obbligo

6. A tuo parere, quale “messaggio” vogliono inviare i segnali circolari?

a) Divieto

b) Pericolo

c) Indicazione

d) Obbligo

7. Vi sono quattro segnali circolari che indicano due divieti e due “fine” di quegli stessi divieti. Che segnali sono?

.....
.....

SEGNALI DI VARIO TIPO

8) Nelle pagine precedenti colora in modo corretto i seguenti cartelli:
O, R, S, P.

9) Cerca nella tua memoria o cerca in Internet almeno quattro segnali stradali che non sono stati presi in considerazione e disegna.

A large grid of red dots, arranged in approximately 30 rows and 40 columns, intended for drawing the road signs mentioned in the instructions.