

LA DIVISIONE

Hai già conosciute:

- L'operazione di ADDIZIONE
- L'operazione di SOTTRAZIONE (inversa dell'addizione)
- L'operazione di MOLTIPLICAZIONE

La prima immagine ti vuole dare un'idea della DIVISIONE

- L'operazione che SUDDIVIDE IN PARTI UGUALI
- L'operazione *inversa* della MOLTIPLICAZIONE
- L'operazione che ha come simbolo : (diviso)

Completa nelle zone vuote.

12

$12:3=4$ $3 \cdot 4 = \underline{\quad}$

18

$18:2 = \dots\dots\dots$

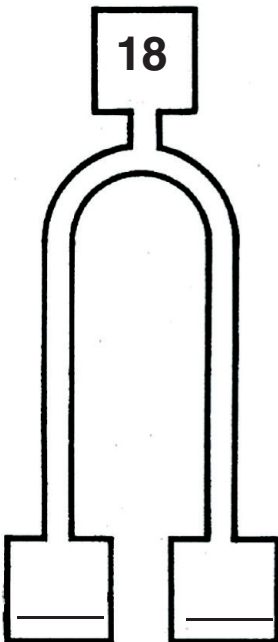
$\underline{\quad} \cdot \underline{\quad} = 18$

15

LA DIVISIONE

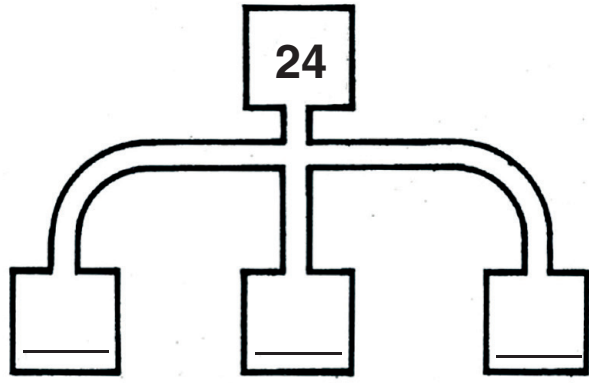
Completa nelle zone vuote. Avere come riferimento sempre la scheda DIVISIONE (1).

18



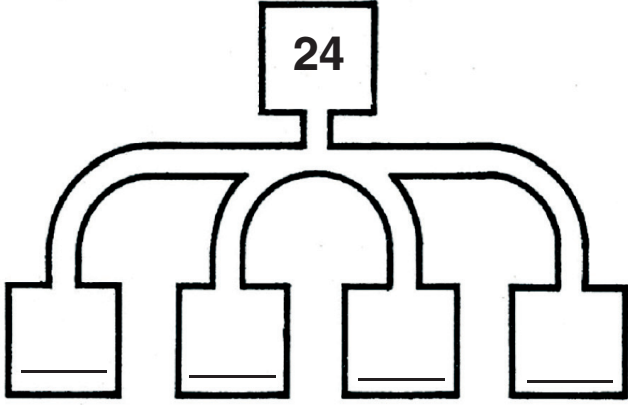
$\underline{\quad} : \underline{\quad} = \underline{\quad}$
 $\underline{\quad} \cdot \underline{\quad} = \underline{\quad}$

24



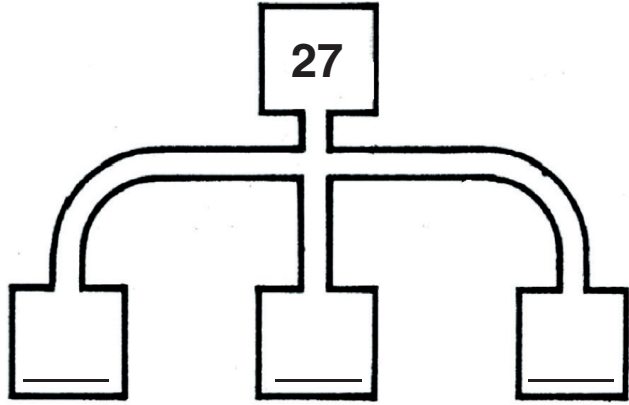
$\underline{\quad} : \underline{\quad} = \underline{\quad}$ $\underline{\quad} \cdot \underline{\quad} = \underline{\quad}$

24



$\underline{\quad} : \underline{\quad} = \underline{\quad}$ $\underline{\quad} \cdot \underline{\quad} = \underline{\quad}$

27




$\underline{\quad} : \underline{\quad} = \underline{\quad}$ $\underline{\quad} \cdot \underline{\quad} = \underline{\quad}$

LA DIVISIONE

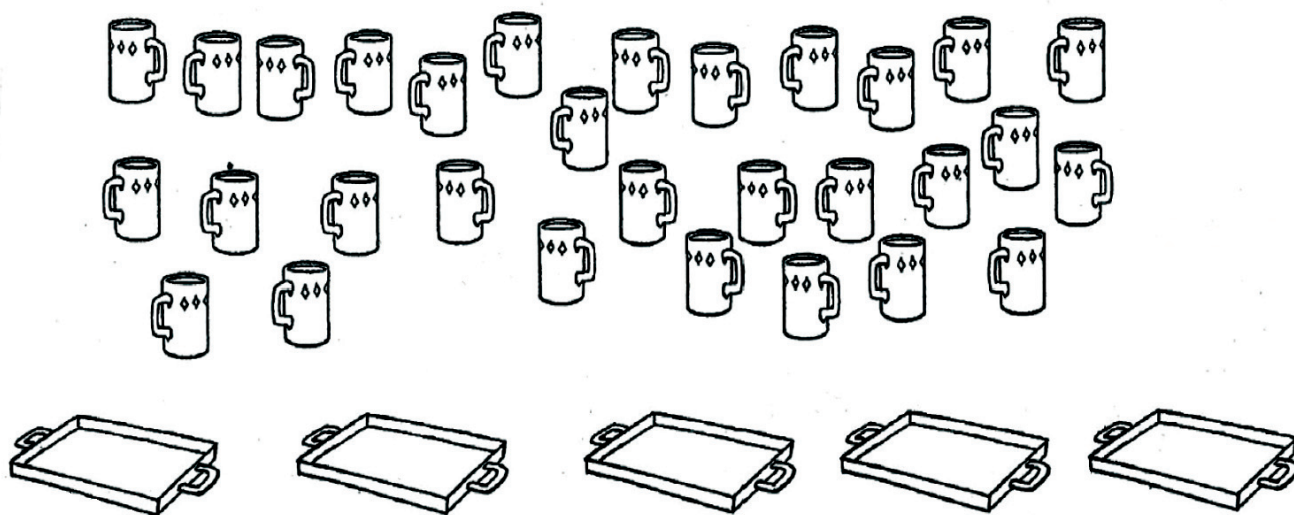
Completa, sempre nelle zone punteggiate.

Quanti barattoli nelle scatole?



.....

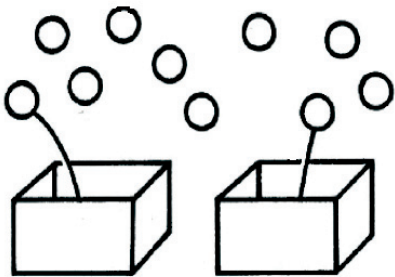
Quante tazze su ogni vassoio?



.....

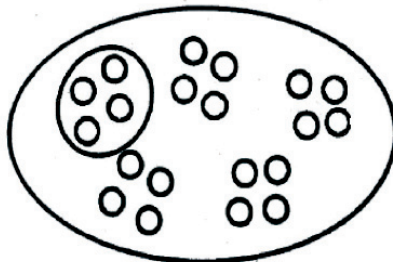
LA DIVISIONE

Completa nelle zone vuote. Avere come riferimento sempre la scheda DIVISIONE (1).




$$10:2=$$

$$=10$$



$$: =$$

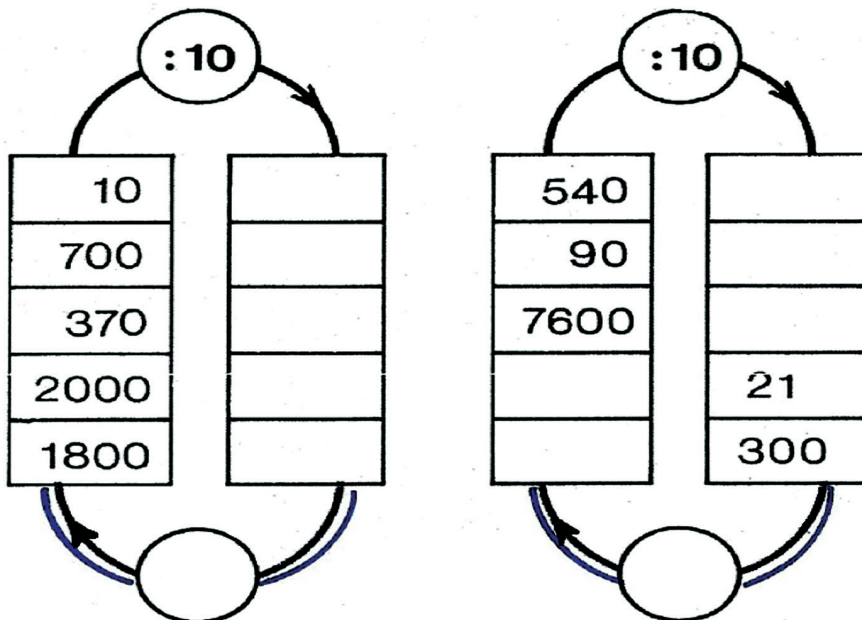
$$=$$



$$: =$$

$$=$$

Completa.



Che significato puoi dare alle doppie frecce alla base dei due grafici.

.....

LA DIVISIONE

Esegui le divisioni indicate. Se hai problemi puoi usare la calcolatrice.

$50 : 2 =$

$160 : 2 =$

$50 : 5 =$

$160 : 8 =$

$50 : 10 =$

$160 : 10 =$

$120 : 2 =$

$360 : 3 =$

$120 : 3 =$

$360 : 9 =$

$120 : 10 =$

$360 : 10 =$

$8000 : 10 =$

$17000 : 10 =$

$8000 : 100 =$

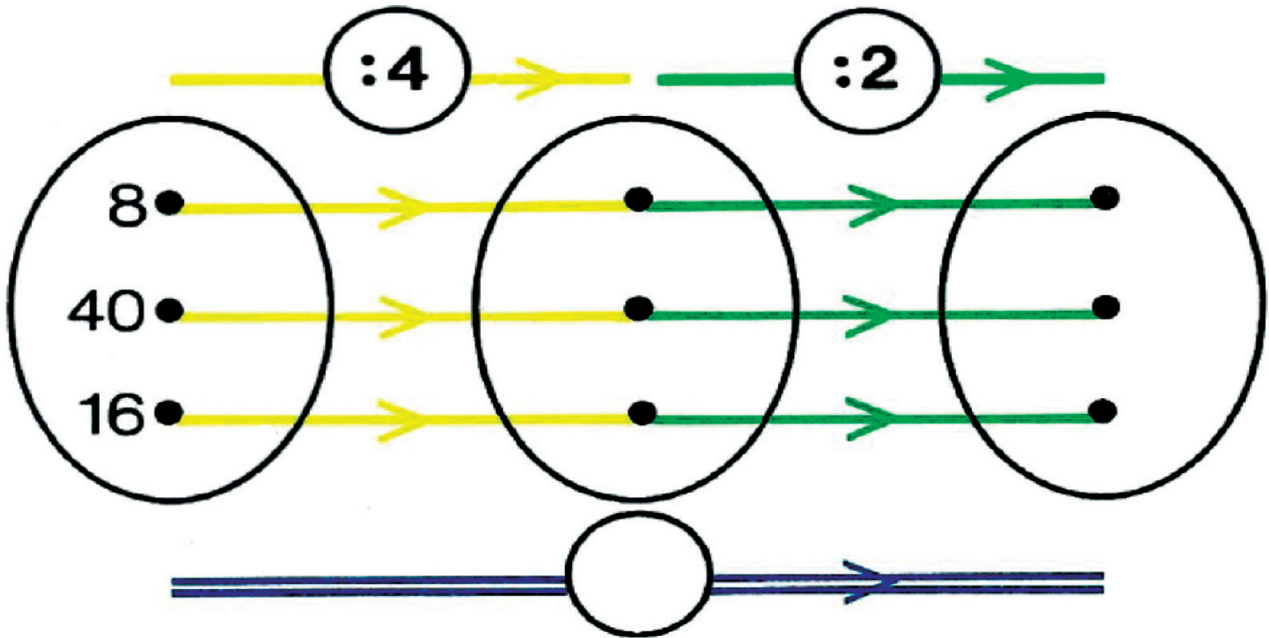
$17000 : 100 =$

$8000 : 1000 =$

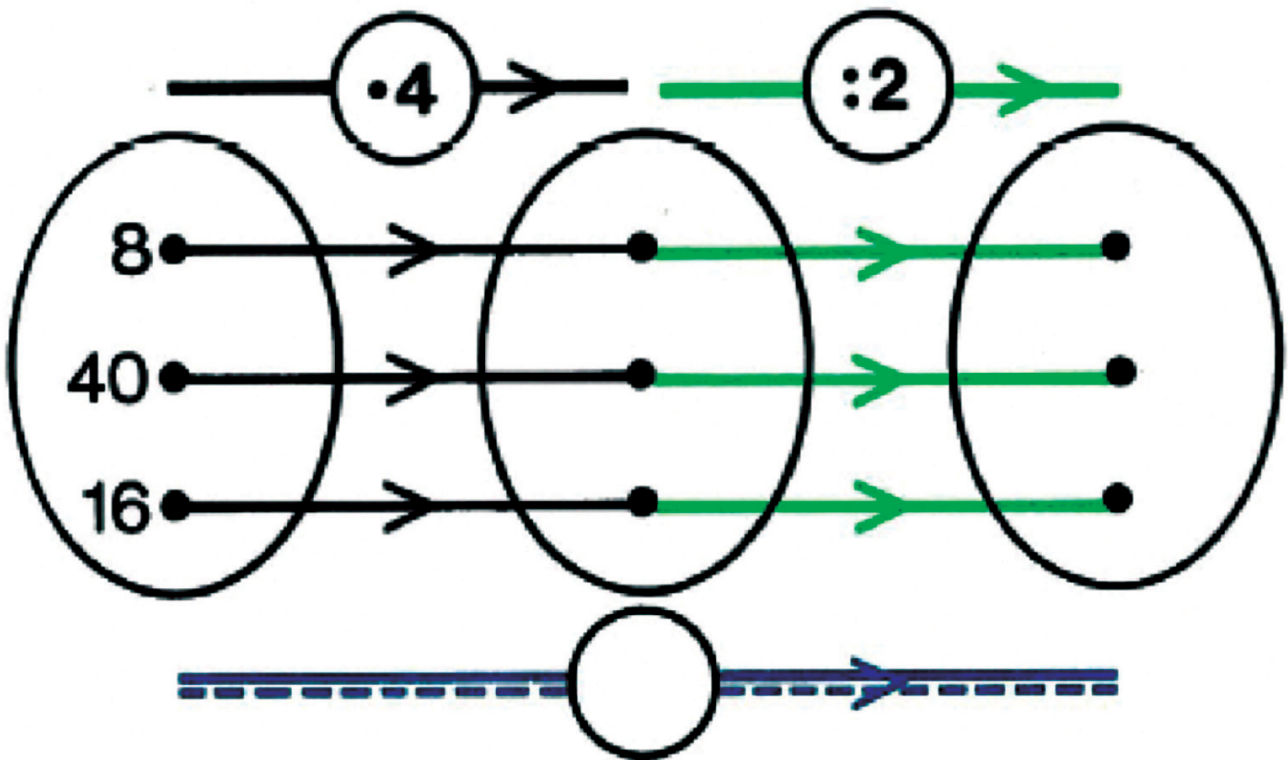
$17000 : 1000 =$

LA DIVISIONE

In ogni proposta indica quale è il significato della freccia che sta alla base della figura.



.....
.....



.....
.....

LA DIVISIONE

Abbiamo detto che la DIVISIONE è l'operazione inversa della MOLTIPLICAZIONE.

Completa negli spazi vuoti.

1)

$$15 : 3 = 5 \longrightarrow 5 \cdot 3 = 15$$

$$28 : 7 = \longrightarrow =$$

$$63 : 9 = \longrightarrow =$$

$$280 : 2 = \longrightarrow =$$

$$500 : 5 = \longrightarrow =$$

2)

$$60 : 3 = \longrightarrow =$$

$$100 : 4 = \longrightarrow =$$

$$800 : 4 = \longrightarrow =$$

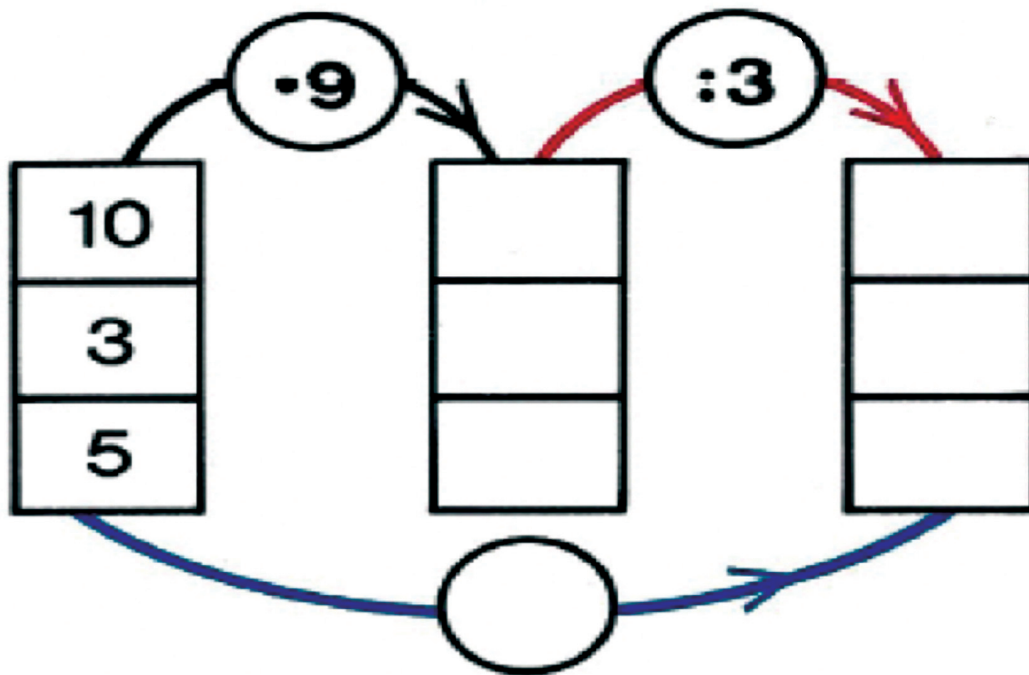
$$16 : 16 = \longrightarrow =$$

$$48 : 12 = \longrightarrow =$$

LA DIVISIONE

Completa nelle zone "vuote". Indica quale numero e quale operazione va inserita nell'arco di colore azzurro.

1)



2)

