

CONOSCERE L'ITALIA parte seconda

LE REGIONI ITALIANE

Osserva con attenzione.



- 1) Quante sono le regioni italiane?.....
- 2) In quale regione è situata la tua scuola?.....
- 3) Se i tuoi genitori sono nati in Italia, sai dire in quali regioni sono nati?

.....

.....

CONOSCERE L'ITALIA parte seconda

LE REGIONI ITALIANE

Scrivi nella “cartina muta” i nomi delle diverse regioni, che trovi nella scheda precedente. Se non sai scrivere, ripeti il nome di ciascuna regione e indicala sulla cartina con un colore a tua scelta.

scheda 2



CONOSCERE L'ITALIA parte seconda

LE REGIONI ITALIANE

Osserva. Sulla destra vi è la cartina dell'Italia "muta". Sulla sinistra alcune regioni italiane un po' ingrandite.



Collega ciascuna regione con la sua posizione sulla penisola italiana. Colora con lo stesso colore ciascuna regione presente in un riquadro a sinistra e la sua immagine presente nella cartina di destra. Di ciascuna delle tre regioni devi indicare il nome del capoluogo di regione (aiutati con un atlante).

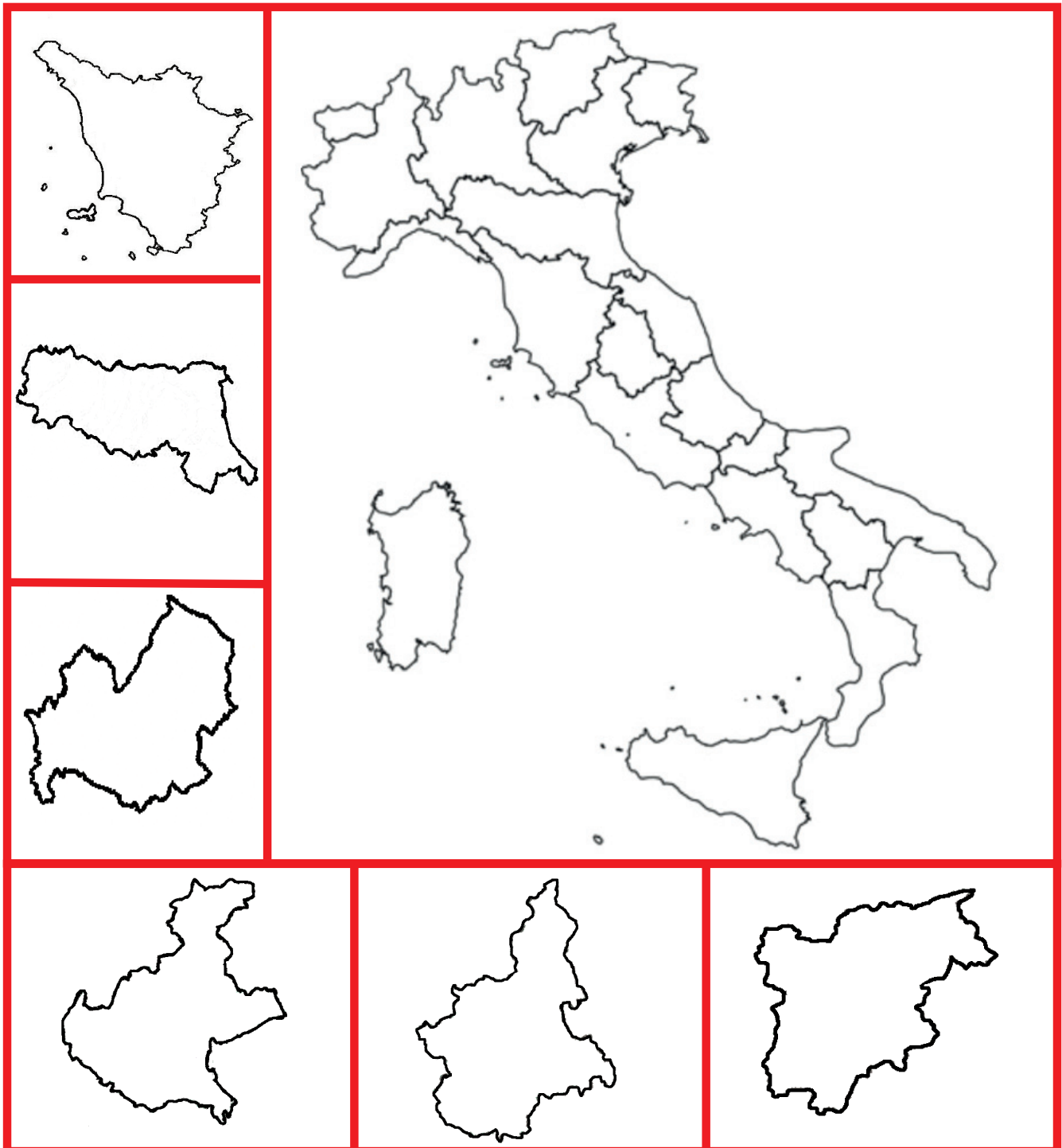
.....

.....

CONOSCERE L'ITALIA parte seconda

LE REGIONI ITALIANE

Collega ciascuna regione con la sua posizione sulla cartina a destra. Ti può essere utile usare colori diversi, per ogni collegamento. Di ciascuna regione devi indicare il nome e il capoluogo di regione (aiutati con un atlante)



CONOSCERE L'ITALIA parte seconda

LE REGIONI ITALIANE


Nelle etichette vuote scrivi i capoluoghi di regione.




Valle d'Aosta




Piemonte




Lombardia




Liguria




Trentino-Alto
Adige



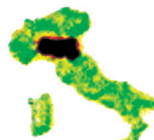
Veneto



Friuli-Venezia
Giulia



Emilia-Romagna



Le regioni indicate sono tutte del nord d'Italia?

SI NO

Se **NO**, quale regione mancherebbe?.....