





# CONOSCERE L'ITALIA - parte terza

## Regioni 1

Nella newsletter n° 34 avevamo spesso colorato l'Italia con tre colori. Ti proponiamo ora una piccola novità: i colori sono 4!

Completa nelle zone punteggiate inserendo i nomi corretti. Scrivi poi, con qualche frase, qual è la "novità". Puoi chiedere aiuto al tuo insegnante.

			
l'Italia	l'Italia	l'Italia	l'Italia
.....	.....	.....	.....










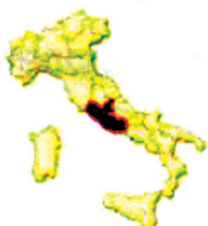




.....

.....

# CONOSCERE L'ITALIA - parte terza

## Regioni 2

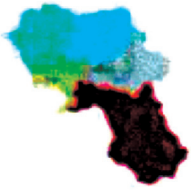
Hai già visto i capoluoghi delle regioni del nord Italia. Con l'eventuale aiuto di un atlante, scrivi i capoluoghi delle regioni del centro Italia.

	<input type="text" value="Toscana"/>		<input type="text"/>
	<input type="text" value="Umbria"/>		<input type="text"/>
	<input type="text" value="Marche"/>		<input type="text"/>
	<input type="text" value="Lazio"/>		<input type="text"/>
	<input type="text" value="Abruzzo"/>		<input type="text"/>
	<input type="text" value="Molise"/>		<input type="text"/>

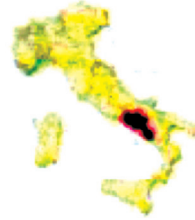
# CONOSCERE L'ITALIA - parte terza

## Regioni 3

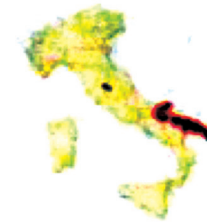
Hai già visto i capoluoghi delle regioni del nord e del centro Italia. Con l'eventuale aiuto di un atlante, scrivi i capoluoghi delle regioni del sud e delle isole.



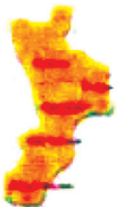
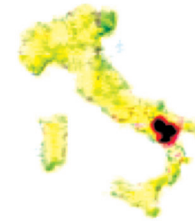
Campania



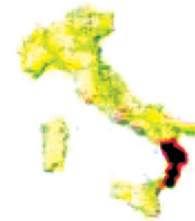
Puglia



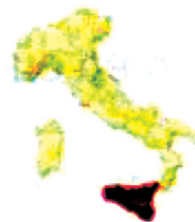
Basilicata



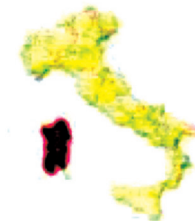
Calabria



Sicilia



Sardegna



L'isola Sardegna è colorata con quattro colori diversi.  
A tuo parere, perchè?



## Regioni 4

Se cerchi in Internet, sempre nel sito Pinterest, puoi trovare questa immagine.

Cerca di rispondere alle domande.



1) Quali sono le regioni colorate in giallo?

.....

2) Quali sono le regioni colorate in azzurro?

.....

3) Una sola regione è colorata in bianco. Che regione è:

.....

4) In questo disegno forse c'è "qualcosa che non va". Vai a ricontrollare tutti i disegni dell'Italia che hai visto fino a ora e cerca di spiegare qual è la "cosa che non va".

.....

.....

# CONOSCERE L'ITALIA - parte terza

## L'Italia fisica (1)

Osserva con attenzione questa carta dell'Italia. In essa non riconosci più le regioni. Vi sono i nomi di alcune città, ma soprattutto altre caratteristiche: monti, pianure, mari...



# CONOSCERE L'ITALIA - parte terza

- 1) Nella cartina sono segnati i nomi di cinque mari.  
Scrivili: .....  
.....
- 2) Puoi osservare che il colore azzurro dei mari non è uguale dappertutto. Vi sono delle zone più o meno scure. Con l'aiuto di un atlante o del tuo insegnante cerca di rispondere:
  - a) Le zone azzurro scuro indicano.....  
.....
  - b) Le zone azzurro chiaro indicano.....  
.....
- 3) Vicino alla regione toscana vi è scritto ARCIPELAGO TOSCANO. Con l'eventuale aiuto di un vocabolario o dell'insegnante, spiega il significato della parola ARCIPELAGO.  
.....  
.....
- 4) Nella cartina le montagne sono indicate con il colore marrone (più o meno scuro a seconda della loro altezza). Scrivi i nomi delle montagne che riesci a distinguere. Puoi aiutarti anche con un atlante.....  
.....  
.....
- 5) Nella cartina le zone di pianura sono indicate con il colore verde. Scrivi il nome della pianura più grande presente nel nostro paese.  
.....

## L'Italia fisica (2)

Osserva infine questa ultima cartina, in cui sono individuate le cosiddette ZONE CLIMATICHE.



- 1) Scrivi su questa cartina i nomi dei mari che hai imparato a conoscere nella cartina precedente.
- 2) A tuo parere, in un inverno molto freddo, è meglio abitare in una regione che si affaccia al mare o in alta montagna?
- 3) Scrivi i nomi delle regioni che si affacciano sul mare Tirreno.

.....

.....