

OPERAZIONI DIRETTE E INVERSE

Al posto dei puntini (.....) scrivi i numeri corretti.

$$\begin{array}{c} \text{Pineapple} + \text{Red Apple} = 7 \\ \text{Pineapple} = 5 + \text{Red Apple} \end{array}$$

$$\text{Red Apple} = 1 + \text{Banana}$$

$$\text{Red Apple} + \text{Pineapple} + \text{Banana} = \dots\dots\dots$$

$$\text{Banana} + \text{Banana} = 30$$

$$\text{Red Apple} + \text{Red Apple} = 20$$

$$\text{Green Apple} + \text{Green Apple} = 8$$

$$\text{Banana} + \text{Red Apple} + \text{Green Apple} = \dots\dots\dots$$

OPERAZIONI DIRETTE E INVERSE

Al posto del punto interrogativo (?) scrivi il numero corretto.

$$\text{apple} + \text{apple} + \text{apple} = 30$$

$$\text{apple} + \text{banana} + \text{banana} = 18$$

$$\text{banana} + \text{green apple} = 25$$

$$\text{green apple} + \text{apple} + \text{banana} = ?$$

OPERAZIONI DIRETTE E INVERSE

Al posto del punto interrogativo (?) scrivi il numero corretto.

$$\text{foglia} + \text{foglia} + \text{foglia} = 60$$

$$\text{cipolla} + \text{cipolla} + \text{cipolla} = 12$$

$$\text{cipolla} + \text{fungo} + \text{fungo} = 24$$

$$\text{cipolla} + \text{foglia} + \text{fungo} = ?$$

OPERAZIONI DIRETTE E INVERSE

Al posto del punto interrogativo (?) scrivi il numero corretto.

$$\text{banana} + \text{banana} + \text{banana} = 30$$


$$\text{pineapple} + \text{pineapple} + \text{banana} = 20$$


$$\text{orange} + \text{orange} + \text{pineapple} = 13$$


$$\text{orange} + \text{banana} + \text{pineapple} = ?$$


OPERAZIONI DIRETTE E INVERSE

Al posto del punto interrogativo (?) scrivi il numero corretto.


$$+ + = 66$$


$$+ = 30$$


$$+ + = 56$$


$$= ?$$