

Unità

46

I paesi baltici

Il territorio e i paesaggi regionali

► I Paesi Baltici comprendono **tre piccole repubbliche**: Estonia, Lettonia e Lituania. Il loro **territorio**, bagnato dal Mar Baltico, è **pianeggiante**, interrotto qua e là da **alture** di modesta altezza. Si tratta di colline moreniche che, come numerosi laghi e ampie zone paludose, sono il risultato dell'intensa azione di modellamento dei ghiacciai.




► Il **paesaggio** è dolce e ondulato; ai campi coltivati si alternano villaggi e piccoli centri. Le colline sono fittamente coperte da boschi misti di conifere e latifoglie. Ovunque la **costa** è bassa e sabbiosa, con dune e vaste zone acquitrinose.

► In tutta la regione c'è grande abbondanza di acque. Fra i numerosi **fiumi**, diretti verso il Baltico, spiccano la Dvina Occidentale, in Lettonia, e il Nemunas, in Lituania. Alla loro foce sorgono alcune delle principali città, ma i porti, tranne quello protetto di Riga, sono bloccati per due o tre mesi l'anno dal ghiaccio. Frequenti sono le conche occupate da **paludi e laghi** di piccole dimensioni: il maggiore è il lago Peipus (o dei Ciudi), in Estonia. Il clima è continentale e freddo; nel Sud si avverte l'influenza del mare, che addolcisce le temperature e favorisce la piovosità.

► Qual è la principale caratteristica del territorio?

► Quali sono gli elementi principali del paesaggio baltico?

► Quali sono le caratteristiche dei fiumi e dei laghi?

	 Estonia	 Lituania	 Lettonia
superficie	45 227 km ²	65 300 km ²	64 589 km ²
popolazione	1 356 000 abitanti	3 454 000 abitanti	2 325 000 abitanti
nome ufficiale	Eesti Vabariik	Lietuvos Respublika	Latvijas Republika
densità	30 ab/km ²	53 ab/km ²	36 ab/km ²
popolazione urbana	69,2%	66,9%	59,8%
speranza di vita maschi/femmine	65/77 anni	66/77 anni	65/76 anni
lingua	estone (ufficiale), russo	lituano (ufficiale), polacco, russo	lettone (ufficiale), russo
religione	protestante, ortodossa	cattolica, ortodossa	cattolica, protestante, ortodossa
moneta	corona estone	litas	lats
ordinamento dello stato	repubblica	repubblica	repubblica
capitale	Tallinn	Vilnius	Riga
ISU e posizione mondiale	0,853 - 36°	0,842 - 41°	0,823 - 50°

A

Lavora con la carta

Osservando la carta, completa gli spazi vuoti nel testo e cancella le ipotesi sbagliate.

I tre paesi sono affacciati sul Mar Baltico; a nord si trova il Golfo di Svezia/Finlandia, a ovest, invece, il Golfo di , che è compreso tra Estonia e Lettonia/Lituania. Molte sono le isole situate qui: le maggiori sono quelle di e di , che appartengono all'Estonia/Lituania. I confini terrestri della regione sono a nord-est ed est con la ; a est e sud-est con la ; a sud con la e con il territorio di Kaliningrad, che appartiene alla Russia/Bielorussia.

La zona collinare più estesa della regione si trova al centro della , con le Colline Vidzeme, mentre il punto più elevato si ha nel Monte Munamägi, a 318 m, in Le aree paludose sono particolarmente diffuse lungo i fiumi e le coste, soprattutto in Estonia/Lituania.



La popolazione e le città

► Perché la popolazione è in calo?

► Dove si concentrano gli abitanti? Quali sono le caratteristiche della rete urbana?

Lo sapevi che...

Vilnius fu per secoli un centro di cultura ebraica, ma la comunità ebraica fu sterminata durante l'occupazione tedesca, dal 1941 al 1944.

La Lettonia è il paese, con più donne al mondo. Infatti, ogni 100 donne ci sono appena 85 uomini, mentre in Italia il rapporto è di 94 uomini ogni 100 donne.

► La regione è poco popolata: il numero totale degli **abitanti** è di soli **7 milioni**, di cui circa la metà residenti in Lituania.

Inoltre, da più di un decennio, la popolazione di tutti e tre i paesi continua a calare: negli ultimi cinque anni gli **abitanti** complessivi sono **diminuiti** di oltre 400 000 unità. Questa situazione, che costituisce un record negativo a livello mondiale, è dovuta a **diverse cause**: al bassissimo tasso di fecondità, al saldo migratorio negativo (con l'eccezione della Lituania) e al peggioramento del livello di vita dopo l'indipendenza dall'Unione Sovietica, raggiunta nel 1991.

► Le **densità** di popolazione sono ovunque piuttosto basse. Gli **abitanti** si **concentrano** lungo le coste o nelle città, che ospitano circa i 2/3 della popolazione regionale. La **rete urbana** è però povera di grandi centri. La principale città dell'area per numero di abitanti e funzioni economiche è **Riga**, capitale della Lettonia. Altri centri importanti sono **Tallinn**, capitale dell'Estonia, **Vilnius**, capitale della Lituania, e **Kaunas**.

Glossario

• **saldo migratorio**

Differenza fra il numero di immigrati e di emigrati; è negativo quando gli emigrati superano gli immigrati.

A

Lavora con la carta e le immagini

Inserisci nella carta le quattro città della tabella e sottolinea le tre capitali.

città	abitanti
Riga	747 000
Tallinn	559 000
Vilnius	553 000
Kaunas	369 000

Abbina ora le descrizioni delle tre capitali dei paesi baltici alle foto corrispondenti.

1. Porto commerciale sulle rive della Dvina Occidentale, la capitale lettone conserva nei quartieri più antichi numerosi edifici medievali.
2. La capitale lituana sorge su due fiumi, il Vilnia e il Neris. Nel centro storico si trovano numerosi edifici gotici, barocchi e neoclassici.
3. La capitale estone, situata nel Golfo di Finlandia, è un vero gioiello architettonico con un'antica fortezza nella parte alta e la zona medievale, circondata da mura, nella parte bassa.



Tallinn.



Riga.



Vilnius.

L'identità degli stati

- Quali vicende hanno accomunato nel passato i tre paesi?
- Quale scelta economica e politica hanno fatto dopo l'indipendenza?
- In che cosa differiscono riguardo a lingua e religione?

► I tre paesi hanno **in comune** soprattutto **elementi naturali e storici**. Dal punto di vista della geografia fisica, il Mar Baltico è l'elemento che più contraddistingue la regione. Dal punto di vista storico e politico, la caratteristica comune di questi paesi è il fatto di essere nati dal processo di disgregazione dell'Unione Sovietica nel 1991 (→ lezione 7 unità 50).

Fin dal Duecento, le loro popolazioni hanno **lottato** a lungo per contrastare le **mire espansionistiche** delle più grandi e potenti nazioni vicine. Di volta in volta, scandinavi e tedeschi, russi e polacchi si sono alternati nel dominio di quest'area, che è sempre stata una regione di frontiera tra mondo germanico e mondo slavo. Per questo motivo, nonostante le differenze, i paesi baltici hanno conservato un **forte** senso di **identità** e difeso la propria autonomia attraverso il mantenimento delle proprie tradizioni culturali e linguistiche. Anche nel recente passato, durante il cinquantennio sovietico, essi hanno dovuto **resistere** al processo di **russificazione**, cioè all'aumento numerico dei russi nel loro territorio e all'influenza da questi esercitata in campo culturale, economico e politico.

► Sono stati proprio i combattivi movimenti nazionalistici a guidarli verso l'indipendenza del 1991; dopo questo evento, i paesi baltici hanno deciso di **non aderire alla CSI**, la comunità di stati indipendenti (→ lezione 3 unità 35) che lega economicamente e politicamente tutte le altre repubbliche ex sovietiche. Essi si sono così sottratti all'influenza russa, scegliendo invece di aderire all'Unione Europea.

► Notevoli differenze restano fra le tre repubbliche dal punto di vista etnico. I lituani e i lettoni parlano **lingue** simili, appartenenti al gruppo baltico, invece l'estone è una lingua somigliante al finnico. Quanto alla **religione**, i lituani sono cattolici, mentre lettoni ed estoni sono protestanti. In tutte le repubbliche i **tre gruppi etnici nazionali** sono affiancati da **minoranze**, soprattutto di russi, particolarmente numerosi in Estonia e Lettonia.

A

Collega le descrizioni alle immagini

Abbina le immagini, che rappresentano alcuni simboli dei paesi baltici, alle frasi corrispondenti.

1. Le danze tradizionali che ogni anno si svolgono durante il festival della canzone e della danza a Tallinn rappresentano una delle tante manifestazioni culturali dei paesi baltici.

2. I giacimenti di ambra (una resina fossile utilizzata per oggetti ornamentali, ad esempio collane) della costa baltica sono i più ricchi d'Europa, tanto che questi paesi erano chiamati «le terre dell'ambra».

3. Una manifestazione popolare del 1990 per rivendicare l'indipendenza da Mosca.

4. Edifici dagli intonaci colorati e dai tetti spioventi, tipici del periodo anseatico (Medioevo), a Riga.

**a****b****c****d**

L'economia

- Qual è la situazione economica dei tre paesi?
- Quali sono le caratteristiche del settore primario? E dell'industria?
- Qual è l'attività principale del terziario?

► L'economia delle tre repubbliche baltiche, che era tra le più ricche e avanzate dell'Unione Sovietica, dopo l'indipendenza ha attraversato un lungo periodo di difficoltà. Per un decennio, il reddito nazionale è diminuito e i tre paesi hanno dovuto affrontare **gravi problemi**: la mancanza di materie prime energetiche, la limitatezza dei mercati interni e la scarsa efficienza e competitività dell'industria. Una certa ripresa economica è iniziata solo pochi anni prima dell'ingresso nell'Unione Europea, avvenuto a metà del 2004. Ciò ha favorito gli investimenti esteri soprattutto da parte di aziende tedesche e svedesi. I paesi baltici, tuttavia, hanno i **più bassi redditi per abitante** fra gli stati dell'UE.

► Nel **settore primario** la principale attività è costituita, grazie alla ricchezza di pascoli, dall'allevamento, in particolare dei bovini, che fornisce grandi quantità di carne, latte e formaggi. Tra le colture sono diffuse quelle di cereali, patate, barbabietole da zucchero e lino. Dalle estese foreste si ricava molto **legname**. Discreta è anche la pesca.

Nel **settore secondario** prevalgono le industrie tradizionali, come quelle alimentari, tessili e della lavorazione del legno. Solo nelle principali città hanno sede stabilimenti di elettronica e chimica, mentre lungo la costa si trovano i cantieri navali.

► Il **settore terziario** è caratterizzato da una forte specializzazione nel trasporto marittimo, soprattutto nei porti della Lettonia, in particolare quello di Riga, l'unico raggiungibile nei mesi invernali, e di Ventspils.

A

Lavora con la carta

Osserva la carta che rappresenta le **attività economiche** della regione e rispondi.

1. Qual è la principale via di comunicazione della regione? Quali città collega?

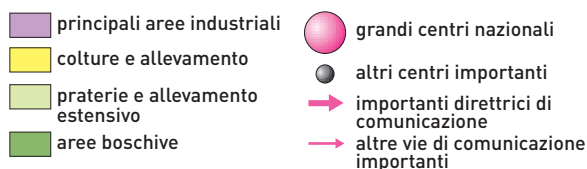
.....

2. Dove si trovano le aree industriali più vaste?

.....

3. Quali sono i principali porti?

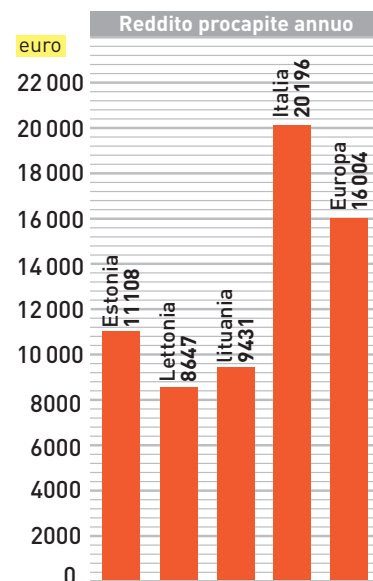
.....



B

Lavora con il grafico

Osserva l'istogramma e descrivi le differenze nel reddito annuo per abitante dei tre paesi baltici rispetto all'Italia e alla media dei paesi europei.



Verifiche

1 Indica l'affermazione corretta

La popolazione dei paesi baltici è caratterizzata da:

- a elevata densità
- b una maggioranza di abitanti che vive in grandissime città
- c uno scarso numero di abitanti
- d un alto tasso di fecondità

2 Indica l'affermazione corretta

I diversi stati della regione hanno in comune:

- a le lingue, appartenenti al gruppo baltico
- b la religione protestante
- c la lotta, in passato, contro i potenti stati vicini
- d l'adesione alla CSI dopo la dissoluzione dell'URSS

3 Indica l'affermazione errata

L'ambiente dei tre paesi è:

- a prevalentemente pianeggiante
- b intensamente modellato dai ghiacciai
- c ricco di fenomeni vulcanici
- d ricco di acque

4 Indica se queste frasi sono vere o false

1. I paesi baltici sono stati a lungo in lotta fra loro. V F
2. La popolazione dei tre paesi è in calo. V F
3. La russificazione consiste nella forte influenza dei russi nei paesi baltici. V F
4. Le economie dei tre paesi sono molto evolute. V F
5. Il clima della regione è mite di tipo atlantico. V F
6. Tra qualche anno i tre paesi entreranno nell'Unione Europea. V F
7. I paesaggi sono dolci e ondulati. V F
8. Il Mar Baltico è uno dei principali elementi fisici che caratterizzano i tre paesi. V F
9. Gli abitanti si concentrano lungo le coste e nelle città. V F
10. La costa presenta vasti acquitrini. V F

5 Lavora con la carta

Indica i tre paesi baltici, colorandoli in modo diverso. Inserisci poi nella carta muta i seguenti elementi geografici: i nomi dei tre stati, le nazioni confinanti, il fiume Dvina Occidentale, il lago dei Cindi, Tallinn, Riga, Vilnius, Kaunas.



6 Le relazioni geografiche:

collega le espressioni delle due colonne

- | | | |
|-------------|--|--|
| 1. Estonia | | a. Paese col più basso reddito per abitante. |
| 2. Lettonia | | b. Paese in cui la maggioranza è cattolica. |
| 3. Lituania | | c. Paese in cui la lingua è simile al finnico. |

7 Ripassa i concetti

Puoi ripassare i concetti principali dell'unità rispondendo alle domande in azzurro che trovi all'inizio di ogni lezione.