

Il territorio

Unità

49

I paesi orientali delle grandi pianure e il Caucaso

► Quali sono le caratteristiche del territorio?

► Quali sono i fiumi principali? Che tipi di laghi ci sono? Dove si trovano le aree paludose?

► Com'è il clima?

► La regione è principalmente composta da tre paesi, **Ucraina**, **Bielorussia** e **Moldavia**, estesi nell'Europa orientale tra gli stati baltici e il Mar Nero. Il territorio è dominato dalle immense pianure dell'Europa orientale che danno vita a un **ambiente uniforme**, interrotto in alcuni punti da bassi rilievi collinari: è il caso delle ondulazioni del Ripiano Podolico, delle alture del Donec, dei monti della Bielorussia e di Minsk. Le uniche montagne si trovano nell'Ucraina occidentale, dove il territorio è occupato da un tratto della catena dei **Carpazi**; sono poche, comunque, le vette che superano i 1300 m. Anche nella penisola della Crimea, nel Mar Nero, si elevano alture di una certa entità, come i Monti Taurici. In genere la costa del Mar Nero è invece bassa e sabbiosa, spesso caratterizzata da cordoni litoranei e lagune.



► Tutta la regione è **ricca di acque**. Molti fiumi attraversano la pianura e costituiscono ottime vie di comunicazione: i principali sono il Dnepr e il Dnestr, che scorrono da nord a sud per sfociare poi nel Mar Nero. Il territorio è anche disseminato di piccoli **laghi** naturali e di grandi bacini artificiali formati dallo sbarramento dei corsi d'acqua. Numerose sono le **paludi**: è il caso della vasta area palustre formata all'interno dal fiume Pripjat e delle zone paludose del litorale meridionale, solo in parte bonificate.

Il guasto con conseguente fuoriuscita di materiale radioattivo avvenuto nel 1986 nella centrale nucleare di Chernobyl ha profondamente segnato l'area. Tutta la zona, al confine con la Bielorussia, è stata contaminata, le vittime sono state numerose e tuttora la popolazione ne soffre le conseguenze.




► Il **clima** è continentale, con estati calde e inverni molto freddi; lungo il Mar Nero, invece, la costa della Crimea gode di un clima mite, di tipo mediterraneo.

Lo sapevi che...

L'Ucraina è il secondo stato europeo per estensione dopo la Russia.

Dnestr (1352 km) è il nome russo del fiume che in moldavo si chiama Nistru e in ucraino Dnistr.

Con i suoi 2285 km, il Dnepr è il terzo fiume più lungo d'Europa dopo il Volga e il Danubio.

	 Ucraina	 Bielorussia	 Moldavia
superficie	603 700 km ²	207 600 km ²	33 843 km ²
popolazione	47 623 000 abitanti	9 879 000 abitanti	4 285 000 abitanti
nome ufficiale	Ukraina	Respublika Belarus'	Republica Moldova
densità	79 ab/km ²	48 ab/km ²	125 ab/km ²
popolazione urbana	67,2%	71,1%	41,4%
speranza di vita maschi/femmine	64/74 anni	63/75 anni	64/72 anni
natalità	8,1 ‰	8,9 ‰	9,9 ‰
mortalità	15,7 ‰	14,8 ‰	11,6 ‰
lingua	ucraino	bielorusso e russo (uff.)	moldavo (uff.), russo, ucraino
religione	ortodossi (29,9%), cattolici (8,2%), protestanti	ortodossi (31,5%), cattolici (17,7%)	ortodossi (44,4%), musulmani
moneta	hryvna	nuovo rublo bielorusso	leu moldavo
ordinamento dello stato	repubblica	repubblica	repubblica
capitale	Kiev	Minsk	Chisinau
ISU e posizione mondiale	0,777 - 70°	0,790 - 62°	0,681 - 113°
sigla automobilistica	UA	BY	MLD

A

Lavora con la carta

Osservando la carta, completa gli spazi vuoti nel testo e cancella le ipotesi sbagliate.

A nord/sud della regione si estende la Bielorussia, che confina a nord con e Lituania, a con la Polonia e a con la Russia. A della Bielorussia si trova l'Ucraina, a sua volta delimitata a est dalla, a ovest da Polonia, Slovacchia e, a sud-ovest da e Moldavia. Quest'ultima confina solo con Ucraina e, L'unico dei tre paesi ad avere accesso al mare è l'....., che ha un lungo tratto di costa sul Mar Nero e un lembo nel Mar d'..... Alla regione appartiene una parte dei Carpazi Orientali/Occidentali, che raggiungono i 1427/2061 m nel monte Goverla in territorio ucraino/moldavo, vicino al confine con la Slovacchia/Romania. Oltre al Dnepr e al Dnestr, altri fiumi importanti sono la occidentale in Bielorussia, che scorre in direzione del Mar, in Ucraina il Bug Settentrionale/Meridionale, che sfocia nel Mar Nero, e il Donec Settentrionale/Meridionale, affluente del Don russo, diretto al Mar d'Azov. In Moldavia scorre il, un affluente del Danubio, che segna il confine con la



Bielorussia, che scorre in direzione del Mar, in Ucraina il Bug Settentrionale/Meridionale, che sfocia

nel Mar Nero, e il Donec Settentrionale/Meridionale, affluente del Don russo, diretto al Mar d'Azov. In Moldavia

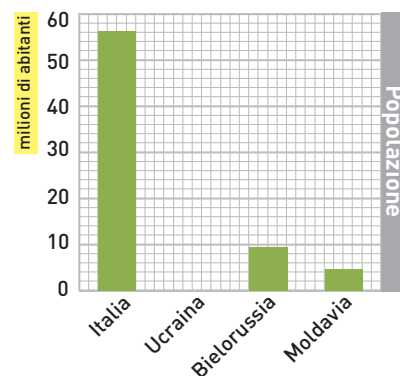
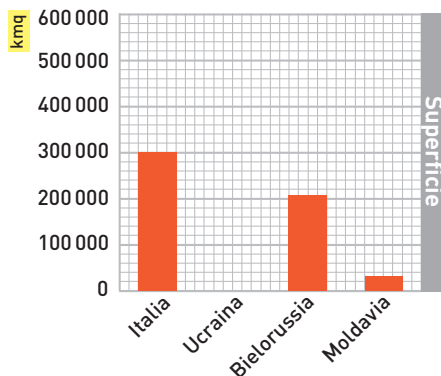
scorre il, un affluente del Danubio, che segna il confine con la

B

Lavora con i grafici

Completa gli istogrammi con i dati relativi all'Ucraina e rispondi alle domande.

1. Quali paesi sono più piccoli dell'Italia?
2. Qualcuno di essi ha una superficie maggiore dell'Italia?
3. Qual è il più popolato?
4. E quello più piccolo e meno popolato?



I paesaggi regionali

- Quali sono le regioni ucraine? Quali le loro caratteristiche?
- E quelle della Bielorussia e della Moldavia?

► Nel paese più grande, l'**Ucraina**, sono due le regioni principali: quella occidentale e quella orientale, entrambe pianeggianti. Nella **regione occidentale** le fertili «terre nere» – dal colore molto scuro perché ricche di humus – sono intensamente sfruttate, con largo uso di macchinari per l'agricoltura e di impianti per l'allevamento. È questo il paesaggio agricolo della **steppa erbosa**, con grandissimi campi coltivati a cereali per i quali l'Ucraina in passato è stata definita «il granaio d'Europa». Il paesaggio della **regione orientale** è invece chiaramente **industriale**; vi predominano le grandi miniere di ferro e carbone, le ciminiere degli enormi stabilimenti siderurgici, le città industriali come Doneck. Un paesaggio a sé stante è formato dal fiume **Dnepr**, che separa le due regioni e sulle cui rive sorgono numerose città, prima fra tutte la capitale Kiev. La regione **costiera meridionale**, invece, presenta lungo il litorale del Mar Nero un paesaggio di tipo mediterraneo; è sede di attività legate alla pesca, al turismo balneare e al commercio portuale. La città principale e il maggiore porto ucraino è **Odesa**. Nell'estremo occidente del paese si estende, infine, la zona montana dei Carpazi.

► La **regione settentrionale**, che comprende la **Bielorussia**, è costituita da una vasta **pianura** attraversata da molti fiumi (tra i quali il Pripjat e la Dvina Occidentale) che scorrono lenti, fra coltivazioni e grandi boschi di pioppi, betulle e ontani. In alcuni tratti si trovano colline e, lungo il corso del Pripjat, zone paludose. La regione sud-orientale della **Moldavia** presenta un paesaggio più **collinare**, prevalentemente agricolo e attraversato dal **Dnestr**.

A

Riconosci il paesaggio

Abbina le immagini alle definizioni corrette, inserendo le lettere negli appositi spazi.

1. regione ucraina orientale
2. regione bielorusa
3. regione costiera



▲ La città industriale di Doneck.

◀ Il castello «Nido di rondine» a Jalta.

► Veduta aerea della vasta pianura al confine con la Lituania.



La popolazione e le città

- Qual è lo stato più popolato?
- Perché la popolazione è in calo?
- Quali sono le differenze nell'urbanizzazione dei tre paesi?

- La regione ha una popolazione di circa **62 milioni di abitanti**. La maggior parte (47 milioni) risiede in Ucraina, che è il paese più importante dell'area e il sesto in Europa per numero di abitanti.
- In tutti e tre i paesi la **popolazione è in calo** a causa dell'aumento della mortalità, in modo particolare in Ucraina e Bielorussia. Dopo la fine del sistema sovietico e il brusco passaggio a un'economia di mercato, negli ultimi quindici anni le condizioni di vita degli abitanti sono molto peggiorate e di conseguenza è diminuita la speranza di vita. D'altro lato, il tasso di natalità continua a rimanere basso. Un forte aumento della **mortalità infantile** si è poi registrato in Bielorussia anche per i tragici effetti dell'incidente verificatosi nel 1986 nella vicina centrale nucleare di Cernobyl.
- Le **densità** di popolazione sono basse, tranne in Moldavia. La massima concentrazione di abitanti è vicino ai giacimenti minerari o **lungo i fiumi**, che hanno favorito lo **sviluppo urbano** in quanto importanti vie di trasporto. La maggior parte della popolazione ucraina e bielorrussa risiede in città. In Moldavia, invece, oltre la metà vive in zone di campagna; l'unico vero centro urbano è la capitale **Chisinau**. Più articolata appare la rete urbana della Bielorussia, dove però il 20% degli abitanti risiede nella capitale **Minsk**. L'Ucraina ha il maggior numero di città: **Kiev**, la capitale, è la più importante di tutta la regione, mentre Odessa è il principale porto marittimo.

A

Collega le descrizioni alle immagini

Abbina le descrizioni alle foto corrispondenti e scrivi il nome delle città raffigurate.

1. Cuore economico e capitale della Bielorussia, si trova lungo l'asse Berlino-Varsavia-Mosca.

.....

2. La capitale ucraina è la città più popolosa e importante di tutta l'area. Sorge sul fiume Dnepr.

.....



L'identità degli stati

► Perché i paesi della regione sono legati alla Russia?

► Qual è l'unico paese di lingua neolatina?

► Qual è la religione dominante?

Lo sapevi che...

Pur essendo quasi identico al rumeno, a differenza di quest'ultimo il moldavo è scritto in alfabeto cirillico e non latino.

Bielorussia significa «Russia Bianca», così chiamata per la prevalenza del bianco nei costumi tradizionali.

► Gli stati di Ucraina, Bielorussia e Moldavia sono nati nel 1991 dal processo di disgregazione dell'Unione Sovietica. Le caratteristiche etniche, le vicende storiche e l'economia legano fortemente questi paesi alla Russia e, in misura minore, alla vicina Polonia. Dovunque sono presenti forti minoranze russe; del resto, ucraini e bielorusi parlano **lingue slave** (come il russo) e l'intera regione è stata a lungo unita alla Russia. **Kiev**, l'attuale capitale ucraina, nel IX secolo fu addirittura la **capitale** del **primo nucleo** statale **russo**. Gli scambi con la Russia sono ancora rilevanti: i tre paesi le forniscono prodotti agricoli e alcuni beni industriali, importando soprattutto petrolio e gas naturale. Essi, inoltre, fanno parte della CSI (→ lezione 3, unità 35) Tuttavia, nel corso della sua storia l'**Ucraina** è stata spesso in contrasto con la Russia. Nel 2005, dopo grandi manifestazioni popolari, nel paese è salito al potere un nuovo governo, deciso a far valere la propria autonomia da Mosca e a intensificare i rapporti con l'Unione Europea. In **Bielorussia**, invece, domina ancora un regime autoritario di stampo sovietico, in cui le opposizioni politiche sono repressi e le libertà democratiche limitate.

► In **Moldavia**, lo stato più piccolo, la maggioranza parla una **lingua neolatina**, il moldavo, quasi identico al rumeno. Proprio la volontà di riunificazione con la Romania (di cui il paese faceva parte fino al 1940) ha originato, dopo l'indipendenza del 1991, forti conflitti etnici che hanno condotto all'autonomia politica o amministrativa di alcune regioni del paese. Negli ultimi anni, però, lo stato moldavo ha abbandonato l'idea di riunirsi alla Romania ed è rientrato nell'orbita russa.

► Un altro elemento che accomuna i tre paesi è la presenza diffusa della **religione cristiano-ortodossa**, oltre che di forti minoranze di cattolici e protestanti. La maggioranza degli abitanti, però, risulta essere atea o non praticante alcuna religione (57% in Ucraina).

A

Collega le descrizioni alle immagini

Abbina le immagini che rappresentano alcuni simboli dei paesi della regione orientale alle descrizioni corrispondenti.

1. Gli effetti del disastro nucleare di Chernobyl in una scuola di Pripjat, abbandonata dopo l'esplosione del reattore.

2. Edifici in stile sovietico a Minsk.

3. Chiesa ortodossa con le tipiche cupole a bulbo.

4. La scalinata Potëmkin, a Odessa, prende il nome dalla corazzata il cui equipaggio si ammutinò, la mattina del 27 giugno 1905, ribellandosi al potere zarista.



L'economia

- Qual è la situazione economica dei tre paesi?
- Quali sono le caratteristiche dell'agricoltura?
- E quelle dell'industria?
- Quali sono le principali attività del terziario?

- Ucraina, Bielorussia e Moldavia attraversano in questi anni una situazione economica molto difficile. Dopo l'indipendenza, il **crollo del reddito nazionale** ha causato un peggioramento delle condizioni di vita della popolazione. Ciò vale in particolare per l'Ucraina, meno per la Bielorussia, dove la produzione non si è ridotta così fortemente. Da parte sua, la Moldavia ha mantenuto un carattere rurale e agricolo, anche se in una zona del suo territorio (la regione della Transdnestria) sono purtroppo assai diffuse alcune attività illegali, come il traffico di armi e droga.
- Nel complesso, i tre paesi presentano un ambiente favorevole per l'**agricoltura**, in particolare nelle fertili «terre nere» dell'Ucraina. Qui le **coltivazioni principali** sono quelle di frumento, mais, patate e barbabietola da zucchero. Nelle aree più settentrionali, soprattutto in Bielorussia, si producono anche lino e cereali minori come segale, orzo e avena. In Moldavia e lungo la costa del Mar Nero si coltivano tabacco e uva, girasoli, frutta e legumi. Importante è l'allevamento di bovini e suini.
- L'**industria** è presente soprattutto in Ucraina e Bielorussia. L'Ucraina, che dispone di notevoli **risorse minerarie**, specialmente carbone e ferro, ha sviluppato settori industriali di base come siderurgia, metallurgia, cantieristica e chimica, i quali ora si trovano però in grave crisi. La Bielorussia, che ha superato meglio le difficoltà legate alle trasformazioni economiche, presenta un discreto sviluppo dell'industria leggera: le produzioni principali sono quelle dei settori meccanico, alimentare, elettronico, del vetro e del legno.
- Nel **terziario** un ruolo importante è svolto dai **trasporti**, particolarmente sviluppati in Bielorussia e nei centri portuali del Mar Nero. Il territorio è ben servito dalla navigazione interna. Lungo le coste del Mar Nero è diffuso il **turismo balneare**, soprattutto in Crimea, dove si trova la famosa località di Jalta.

Lo sapevi che...

Nel 1945 a Jalta si tenne la Conferenza fra le tre potenze vincitrici della Seconda guerra mondiale: Stati Uniti, Unione Sovietica e Regno Unito.

A

Lavora con la carta

Osserva la carta che rappresenta le **attività economiche** della regione e rispondi.

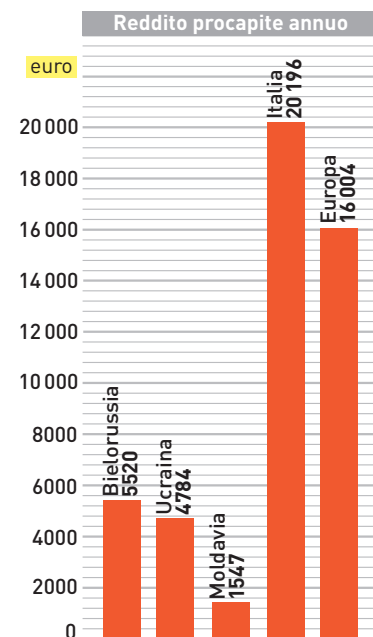
1. In quale paese sono maggiormente diffuse le coltivazioni?
2. E le aree forestali e a pascolo?
3. Quali sono le maggiori vie di comunicazione? Quali città collegano?
4. Quali sono i maggiori aeroporti?



B

Lavora con il grafico

Osserva l'istogramma e descrivi le differenze nel reddito annuo per abitante nei tre stati rispetto all'Italia e alla media dei paesi europei.



I paesi caucasici

- Quali sono le caratteristiche naturali dei paesi caucasici?
- Qual è la situazione etnica e culturale della regione?
- E quella economica?

Lo sapevi che...

Gli armeni trasferitisi all'estero sono circa cinque milioni, residenti per lo più in Russia, USA e Francia.

A Venezia esiste l'Isola degli armeni, così detta perché ospita un antico convento di monaci armeni cristiano-ortodossi.

Il Caucaso è stato definito la «montagna delle lingue» per la presenza di numerosi gruppi etnici e linguistici.

► I paesi caucasici sono tre: **Armenia, Georgia e Azerbaigian**. Situati tra Mar Nero e Mar Caspio, nel Caucaso meridionale, terra di confine tra Europa e Asia, facevano parte dell'Unione Sovietica, da cui hanno ottenuto l'indipendenza nel 1991. Il loro territorio è costituito dalle aspre catene montuose del Caucaso, con cime oltre i 5000 m. I rilievi si alternano ad altipiani e valli fluviali.

► Con **16 milioni di abitanti**, l'area è densamente abitata e urbanizzata. Nelle tre capitali, Tbilisi, Erevan e Baku, risiede quasi 1/3 della popolazione e sono concentrate le attività più importanti. La composizione etnica è varia: da qui nascono gli scontri e i conflitti nazionalistici che si sono verificati soprattutto dopo la dissoluzione dell'Unione Sovietica. Agli inizi del Novecento gli armeni subirono per mano dei turchi ottomani un vero **genocidio** (2 milioni di morti), al quale seguì una migrazione forzata di massa. Per quanto riguarda la **religione**, i musulmani sono la maggioranza in Azerbaigian, mentre i cristiani prevalgono in Georgia e in Armenia. La situazione linguistica è più articolata: alle tre **lingue** nazionali (armeno, georgiano e azeri) si affiancano altri idiomi, tra cui il russo. La regione è sempre stata un **luogo di passaggio**: iraniani, turchi e russi vi hanno esercitato la propria influenza.

► I tre stati sono poveri e arretrati a causa della grave **crisi economica** e dei conflitti etnici. Nel complesso, l'agricoltura è sviluppata; non sono del tutto assenti le aree industriali. In Georgia, favorita dal clima più mite, sono diffuse le coltivazioni mediterranee, come vite, olivo, agrumi e frutta. L'Armenia possiede, rispetto agli altri due paesi, un sistema manifatturiero più evoluto (alimentare, tessile, meccanico ed elettronico), mentre l'Azerbaigian può contare sui giacimenti petroliferi di Baku. Solo la Georgia dispone di uno sbocco al mare aperto. I paesi caucasici fanno parte della CSI.



	 Armenia	 Georgia	 Azerbaigian
superficie	29 473 km ²	69 500 km ²	86 600 km ²
popolazione	3 258 000 abitanti	4 342 000 abitanti	8 202 000 abitanti
densità	110 ab/km ²	62 ab/km ²	95 ab/km ²
lingua	armeno (ufficiale), curdo, russo	georgiano	azero (ufficiale), russo
religione	ortodossi	ortodossi, musulmani	musulmani
ordinamento dello stato	repubblica	repubblica	repubblica
capitale	Erevan	Tbilisi	Baku

A

Lavora con la carta

Osserva la carta e rispondi alle domande.

1. Con quali stati confinano i paesi caucasici?
2. Su quali mari si affacciano?
3. Quali sono i monti più elevati? In che stato si trovano?
4. Quale tra le capitali si trova lungo la costa?



1 Indica l'affermazione corretta

I paesi orientali delle grandi pianure hanno in comune:

- a le lingue slave
- b la religione ortodossa
- c una buona situazione economica
- d la maggioranza della popolazione residente in aree urbane in tutti e tre i paesi

2 Indica l'affermazione errata

La regione dell'Europa orientale è caratterizzata da:

- a numerosi corsi d'acqua
- b grandi laghi artificiali
- c estesi ghiacciai sui rilievi
- d ampie aree paludose

3 Indica se queste frasi sono vere o false

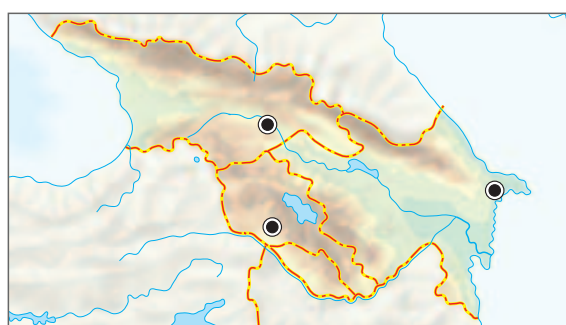
1. I maggiori corsi d'acqua di Bielorussia, Moldavia e Ucraina scorrono verso il Mar Nero. V F
2. Lungo i fiumi sorgono i principali centri urbani ucraini e bielorusi. V F
3. La popolazione di Ucraina, Bielorussia e Moldavia è in crescita. V F
4. Ucraina, Bielorussia e Moldavia fanno parte della CSI. V F
5. L'Ucraina è, nell'area orientale, il paese più importante per numero di abitanti e di città. V F
6. I legami culturali ed economici tra l'Europa orientale e la Russia sono molto forti. V F
7. L'agricoltura è l'attività prevalente in Moldavia. V F
8. L'industria è dovunque un settore in forte espansione. V F
9. In tutti e tre i paesi caucasici l'economia è arretrata. V F
10. I paesi caucasici si estendono al confine tra Europa e Asia. V F
11. Negli stati del Caucaso si parlano numerose lingue. V F

4 Le relazioni geografiche: collega i termini e le espressioni delle due colonne

- | | | |
|------------------------|--|--------------------------|
| 1. Bielorussia | | a. ambiente collinare |
| 2. costa della Crimea | | b. ambiente mediterraneo |
| 3. Moldavia | | c. estesi boschi |
| 4. Ucraina occidentale | | d. steppa erbosa |

5 Lavora con le carte mute

Inserisci nelle carte mute dei sei paesi dell'Europa orientale e del Caucaso, oltre ai loro nomi e alle capitali, i seguenti elementi geografici: Mar Nero, Mar d'Azov e Mar Caspio, Dnepr e Dnestr, Crimea, Caucaso.



Ucraina, Bielorussia e Moldavia.

Paesi caucasici.

6 Ripassa i concetti

Puoi ripassare i concetti principali dell'unità rispondendo alle domande in azzurro che trovi all'inizio di ogni lezione.