

INDIVIDUARE E COMPRENDERE ☆☆☆

1. Compila la tabella indicando per ogni argomento la soluzione più idonea a rappresentarne le informazioni.

	TABELLA A SINGOLA ENTRATA	TABELLA A DOPPIA ENTRATA
La presenza delle varie forme di flora e fauna nei parchi nazionali italiani		X
a. Gli anni in cui i Paesi membri sono entrati a far parte dell'Unione Europea.		
b. I vantaggi e gli svantaggi dei trasporti ferroviario, aereo e marittimo.		
c. L'estensione delle regioni italiane.		
d. Il livello di disoccupazione nei settori dell'industria, dei servizi e dell'agricoltura.		
e. Gli aspetti sociali, politici, economici e culturali che caratterizzano le varie fasi del processo di evoluzione dell'uomo primitivo.		
f. Le occupazioni nel tempo libero del Nord, del Centro e del Sud Italia.		
g. La carica elettrica e la massa relativa di elettroni, protoni e neutroni.		

INDIVIDUARE E COMPRENDERE ☆☆☆

2. Compila la tabella indicando per ogni argomento il grafico più idoneo a rappresentarne i dati.

	DIAGRAMMA	ISTOGRAMMA	AEROGRAMMA
Confrontare il numero di scuole, uffici postali e banche nelle principali città italiane.		X	
a. Mostrare la distribuzione della popolazione di una città nei diversi quartieri.			
b. Evidenziare il rapporto tra i salari e i prezzi durante la grande crisi economica del 1929.			
c. Visualizzare vittorie, sconfitte e pareggi di una squadra di calcio nel corso di un campionato.			
d. Indicare da quali paesi percentualmente provengono i turisti che visitano l'Italia.			
e. Cogliere analogie e differenze nell'andamento delle temperature massime e minime dal 1900 al 2000.			
f. Segnalare gli spettacoli e gli sport preferiti nelle diverse regioni italiane.			
g. Rappresentare le percentuali delle scuole da cui provengono gli iscritti a medicina.			

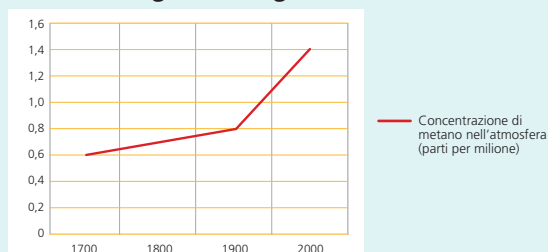
TRASFORMARE ☆☆☆

3. Ricava dalla seguente tabella a singola entrata un grafico.

	NUMERO DI COPPIE DI CROMOSOMI
Riso	12
Uomo	23
Cane	39
Carpa	52

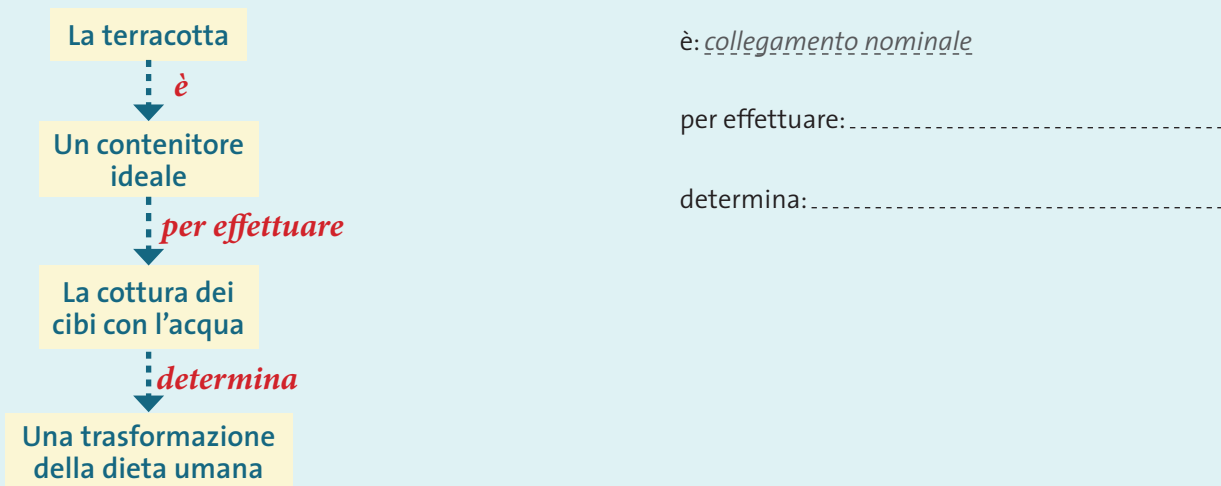
TRASFORMARE ☆☆☆

4. Ricava dal seguente diagramma una tabella.



INDIVIDUARE

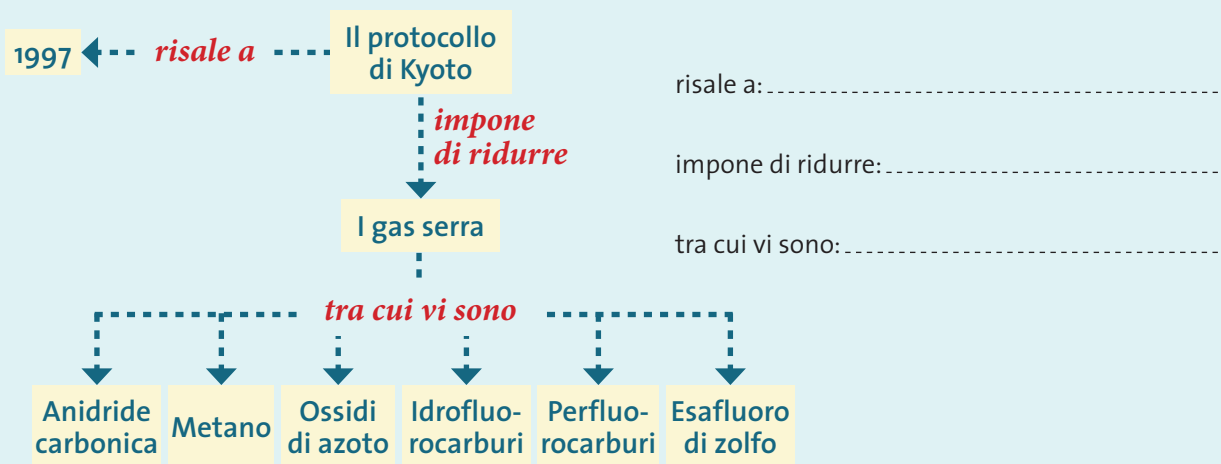
5. Osserva attentamente le mappe concettuali e definisci la tipologia dei collegamenti presenti.



è: *collegamento nominale*

per effettuare:

determina:



risale a:

impone di ridurre:

tra cui vi sono:



si occupano di:

per ricostruire:

avvenuto attraverso: